

## AB11 - Rund um die Zeit

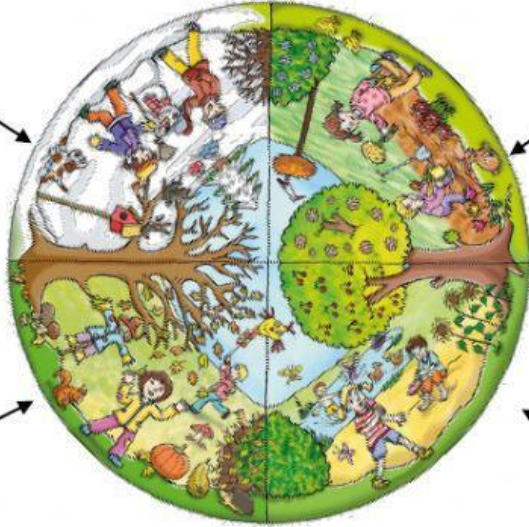
I. Kannst du noch die vier Jahreszeiten korrekt schreiben?

der \_\_\_\_\_  
**T - R - I - E - W - N**

der \_\_\_\_\_  
**Ü - L - G - F - I - R - H - N**


der \_\_\_\_\_  
**B - H - E - T - R - S**

der \_\_\_\_\_  
**M - M - E - O - R - S**



II. Notiere unter den Bildern die Namen der entsprechenden Tageszeiten


der Abend – die Nacht – der Morgen – der Nachmittag – der Vormittag – der Mittag



1.




4.



2.



5.



3.



6.