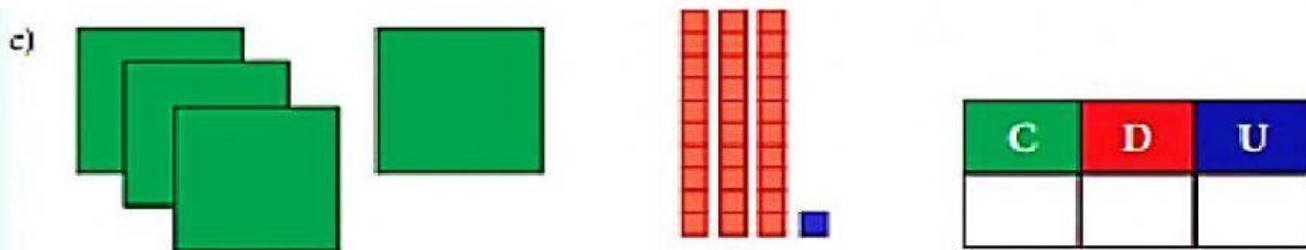

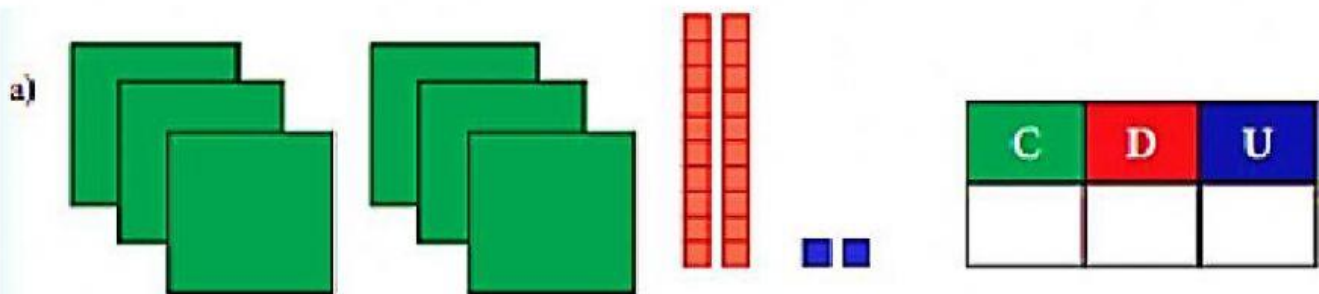
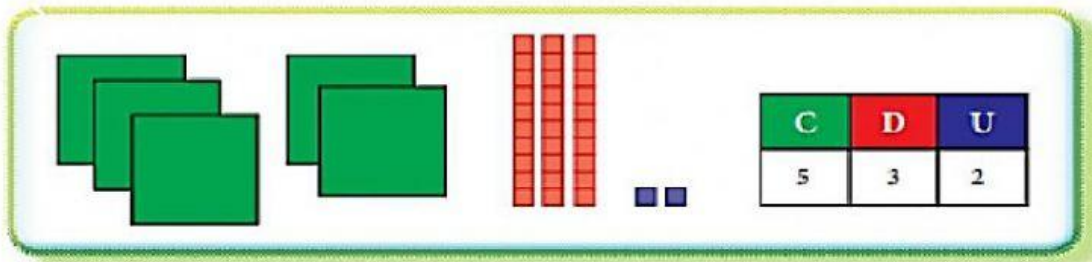


Área: Matemática

Tema: La centena

Fecha: viernes 28 mayo de 2021

Observa el ejemplo del gráfico y completa los demás.



Lee y escribe los números en el tablero posicional.

<i>Cantidades</i>	<i>C</i>	<i>D</i>	<i>U</i>
<i>Ciento cuarenta y tres</i>	<i>1</i>	<i>4</i>	<i>3</i>
<i>Doscientos treinta y uno</i>			
<i>Doscientos cincuenta y siete</i>			
<i>Doscientos cuarenta y cuatro</i>			
<i>Sesenta y seis</i>			
<i>Ciento cincuenta y nueve</i>			
<i>Doscientos cuarenta</i>			
<i>Treinta y cinco</i>			
<i>Ciento cincuenta y dos</i>			
<i>Doscientos cuarenta y ocho</i>			

