


1. Explica, debajo de cada imagen, si se cumple o no se cumple las normas de convivencia.



2. Observa la imagen. Luego completa las oraciones con las palabras del recuadro.

Acera, ciclovías, paso de cebra, rojo.

Los peatones  
deben cruzar la  
calle por el paso  
\_\_\_\_\_ cuando el  
semáforo este en  
verde.



Los peatones deben caminar  
por la: \_\_\_\_\_

Los ciclistas  
deben transitar  
por las:  
\_\_\_\_\_

Los conductores deben  
detenerse cuando la señal  
del semáforo este en:  
\_\_\_\_\_

3. Relaciona cada imagen con su respectiva definición escribiendo el número que corresponde.



1

☐

Mirar a ambos lados  
antes de cruzar la calle.



2

☐

Caminar por los andenes  
con atención y tranquilidad.



3

☐

Usar los cinturones de  
seguridad del vehículo.




4

☐

Pasar las calles por los  
pasos peatonales.

4. Observa la imagen , luego completa La expresion.



Andrés no cuida el parque de su localidad  
porque.....

\_\_\_\_\_

\_\_\_\_\_

6. Escribe a qué clase de señal pertenece las siguientes imágenes.



C



A

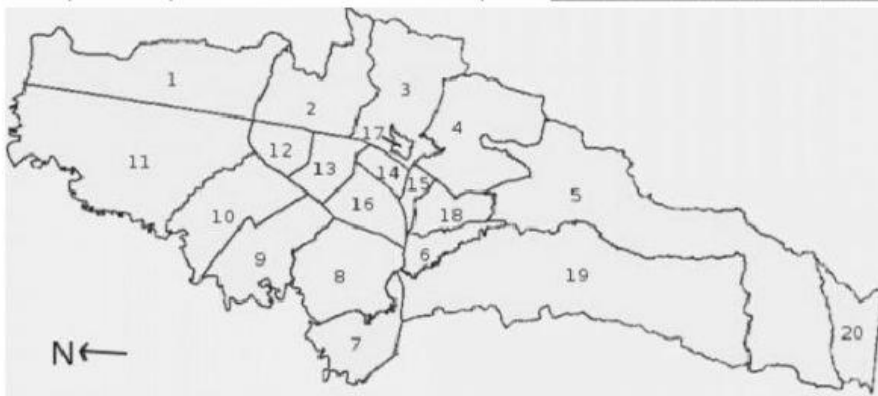


B

7.

A: \_\_\_\_\_ B: \_\_\_\_\_ C: \_\_\_\_\_

8. El mapa nos representa nuestro territorio que es: \_\_\_\_\_



Este territorio se encuentra formado por 20 \_\_\_\_\_ una de ellas es nuestra localidad número \_\_\_\_\_ de \_\_\_\_\_.

Mi Localidad se encuentra ubicada al \_\_\_\_\_ de la ciudad.

Antes \_\_\_\_\_ era un municipio de Cundinamarca, después de unos años paso a ser Localidad de \_\_\_\_\_.

9. Observa



La imagen 1 representa una zona: \_\_\_\_\_

La imagen 2 representa una zona: \_\_\_\_\_



10. Identifica los elementos de la zona rural con una x y los de la zona urbana con un +

