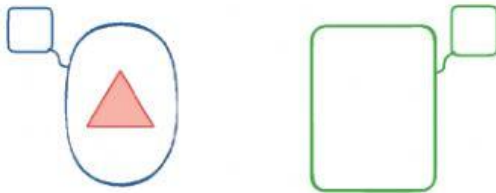




UNIDAD EDUCATIVA "Margarita Amestoy de Sánchez"  
3º AÑO DE EDUCACIÓN GENERAL BÁSICA A-B-C-D  
MATEMÁTICA – TAREA

1 Escribe qué clase de conjuntos representan los gráficos mostrados.



\_\_\_\_\_

2 Completa:

a) Sus elementos no se pueden contar, se conoce el inicio pero no el fin.

Conjunto \_\_\_\_\_

b) No tiene elementos o sus elementos no existen.

Conjunto \_\_\_\_\_

3 Indica que clase de conjunto es:

$L = \{a, e, i, o, u\}$

\_\_\_\_\_


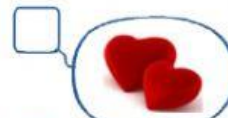
$M = \{\text{Perros que hablan}\}$

\_\_\_\_\_

$F = \{\text{Los números}\}$

\_\_\_\_\_

4 Relaciona:



☐ Conjunto vacío

☐ Conjunto unitario