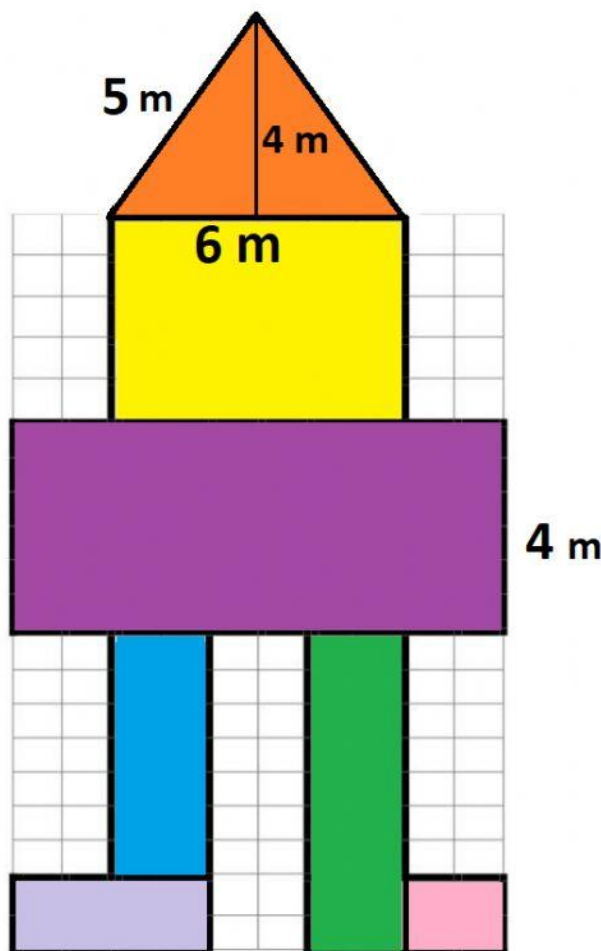





Área y perímetro


Para este ejercicio deberás calcular el perímetro y el área de cada parte de el robot. Recuerda que cada cuadrado representa un 1 m^2 .





 P: _____ m
A: _____ m^2


 P: _____ m
A: _____ m^2

 P: _____ m
A: _____ m^2

 P: _____ m
A: _____ m^2

 P: _____ m
A: _____ m^2

 P: _____ m
A: _____ m^2

 P: _____ m
A: _____ m^2

¿Cuál es el área total del robot? _____ m^2

¿Cuál es el perímetro total del robot? _____ m