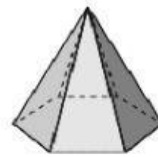
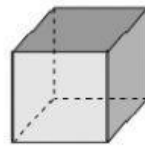

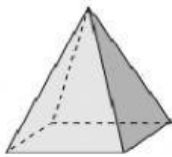
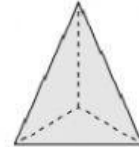
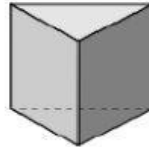
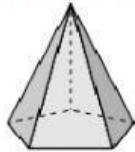
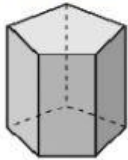


**4** Clasifica estos prismas y pirámides.



**6** Escribe *verdadero* o *falso* para cada oración.

- Un prisma pentagonal tiene 10 vértices. ▶ \_\_\_\_\_
- Un pirámide cuadrangular tiene 4 caras laterales. ▶ \_\_\_\_\_
- Un prisma hexagonal tiene 12 aristas. ▶ \_\_\_\_\_
- Una pirámide triangular tiene 4 vértices. ▶ \_\_\_\_\_
- Un prisma hexagonal tiene 12 caras. ▶ \_\_\_\_\_

**9** Escribe qué cuerpo geométrico es a partir de su descripción.

- Es un prisma y tiene 8 vértices. ▶ \_\_\_\_\_
- Es un cuerpo redondo y tiene un vértice. ▶ \_\_\_\_\_
- Es una pirámide y tiene 10 aristas. ▶ \_\_\_\_\_
- Es un cuerpo redondo y tiene 2 bases. ▶ \_\_\_\_\_