

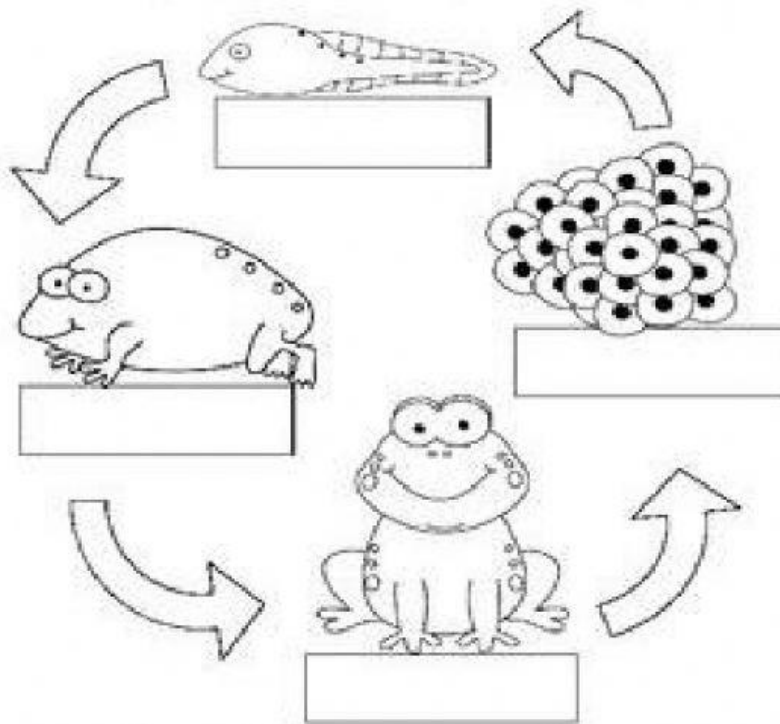
Sección Primaria  
Prueba Trimestral de Ciencias Naturales.

Nombre: \_\_\_\_\_ Grado: 1° A-B

Fecha: \_\_\_\_\_ Valor: 40 pts.





**Docente: Francisca González/ Kenia carrera**

- I. Parte: Ciclo de vida de la rana. Arrastra la palabra donde corresponde( 4 pts.)



rana joven	renacuajo	rana adulta	huevos
------------	-----------	-------------	--------

II. Marca con un gancho según corresponda si es un ser vivo o no tiene vida (8 pts)

				
Es un ser vivo	<input type="checkbox"/>	<input type="checkbox"/>	<input type="checkbox"/>	<input type="checkbox"/>
No tiene vida	<input type="checkbox"/>	<input type="checkbox"/>	<input type="checkbox"/>	<input type="checkbox"/>

III. Escribe dos nombres de animales que nadan, dos que vuelan, y dos que saltan (6 pts.)

A. Nadan: \_\_\_\_\_

B. Vuelan: \_\_\_\_\_

C. Saltan: \_\_\_\_\_

IV. Completa según la clasificación de alimentos de origen animal y vegetal (4 pts.)









A. El huevo y la leche son de origen \_\_\_\_\_

B. Los tomates y la lechuga son alimento de origen \_\_\_\_\_

C. El yogurt que tomo por la mañana es de origen \_\_\_\_\_

D. La manzana que comeré de refrigerio es de origen \_\_\_\_\_

V. Darle click al dibujo como nacen los animales en el cuadro que le corresponde(10pts.)

		
	Oviparos	Viviparos
		
		
		
		
		

VI. Escribe el nombre de dos animales beneficiosos y dos animales perjudiciales (4 pts.)

a. \_\_\_\_\_

b. \_\_\_\_\_

VII. Enumera del 1 al 4 los pasos para la germinación de la semilla, te puedes guiar por el experimento realizado del poroto (4 pts.)

