

NOME: \_\_\_\_\_

PROFESSORA: \_\_\_\_\_

DATA: \_\_\_\_\_

1 UNIDADE

1

1 DEZENA

10  
9  
8  
7  
6  
5  
4  
3  
2  
1

VEJAM:

10		10		10
9		9		9
8		8		8
7		7		7
6		6		6
5		5		5
4		4		4
3		3		3
2		2		2
1		1		1
5	+	3	=	8

SE O RESULTADO DA SOMA FOR  
MAIOR QUE 10, VAI PASSAR DE  
UMA DEZENA

AGORA É COM VOCÊS. VAMOS FAZER A SOMA DAS QUANTIDADES PEDIDAS NA ADIÇÃO. SELECIONE AS QUANTIDADES PEDIDAS NAS BARRINHAS PARA REALIZAR A CONTAGEM. LEMBRE-SE DE MARCAR SEMPRE AS BARRINHAS COMEÇANDO PELO NÚMERO 1:

10
9
8
7
6
5
4
3
2
1

4
---




10
9
8
7
6
5
4
3
2
1

2
---



10
9
8
7
6
5
4
3
2
1

--




6


+



1


=





1

+



6

=

