


Nombre: \_\_\_\_\_

**Instrucciones Generales:** Trabaja de manera limpia y ordena.

**I SERIE VALOR 2 PUNTOS**

Instrucciones: Realiza un conjunto Infinito, arrastra el elemento correspondiente.


A=



**II SERIE: VALOR 3 PUNTOS (1 punto cada respuesta correcta)**

Instrucciones: Escribe dentro de cada cuadro la respuesta correcta de cada pregunta.

¿Cuántos saltos debe de dar la rana para llegar a la mosca?



¿Cuántos saltos debe de dar el conejo para llegar a la zanahoria?



¿Cuántos saltos debe de dar el grillo para llegar a la hoja?



**III SERIE: VALOR 2 PUNTOS (0.5 punto cada respuesta correcta).**

Instrucciones: escribe dentro de cada cuadro el signo correspondiente (<, >, =)

12		12
----	--	----



13		12
----	--	----



20		16
----	--	----



17		19
----	--	----

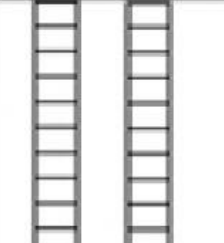

**IV SERIE: VALOR 3 PUNTOS (0.5 puntos cada respuesta correcta)**



Instrucciones: cuenta la cantidad de decenas y unidades que hay luego escribe el número dentro del rectángulo correspondiente.


	
Decenas	Unidades

	
Decenas	Unidades

	
Decenas	Unidades

	
Decenas	Unidades

	
Decenas	Unidades

	
Decenas	Unidades