



EVALUACIÓN DE GEOMETRÍA





Marca una X las figuras planas:

Indica cuál de estos polígonos tiene 5 lados.

Marca con una X

<input type="checkbox"/>	<input type="checkbox"/>	<input type="checkbox"/>	<input type="checkbox"/>	<input type="checkbox"/>

Une con una línea según corresponda:

Figura





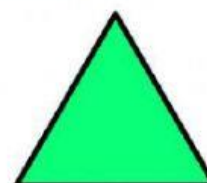
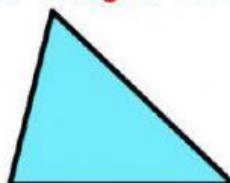
Hexágono

Triángulo

Pentágono

Cuadrilátero

Arrastra cada triángulo al lugar correspondiente.



EQUILÁTERO Tiene los tres lados iguales.	ISÓSCELES Tiene dos lados iguales y uno desigual.	ESCALENO Tiene los tres lados distintos.