


CONTINUAMOS CON LAS MEDICIONES

1. Dados estos tres objetos ¿Con qué unidad de medida, **medirías el peso**? Elige la opción correcta.



2. Estima **cuánto pueden llegar a pesar** éstos objetos a pesar.

Clickea en la medida que consideres que puede llegar a medir.



20 g

120 g

2 Kg



2 g

80 Kg

90 g



200 g

4 Kg

40 g

3. ¿Cuánto mide cada niño? Lee las pistas y responde **expresando la medida en centímetros (cm)**.

Yo mido 20 cm más que Alison.



Dani

Yo mido 1 m y 20 cm.



Alison

Yo mido 12 cm menos que Dani.



Sofi

Yo mido la mitad de lo que mide Dani más 60 cm.



Bruno

Alison mide cm.

Daní mide cm.

Sofi mide cm.


Bruno mide cm.

4. **Expresa en centímetros** la medida del largo de estos animales. Elige la medida correcta.


Mido 4 m y 8cm de alto.




Mido 3 m y 20 cm de alto.



Mido 1 m y 80 cm de alto.



Mido 4 m y 62 cm de largo.



5. Manuel el carpintero, midió con su zapato, el largo de la puerta, porque se le había perdido su centímetro. El largo de la puerta le dio que medía 8 (zapatos) y el ancho 4 (zapatos).

1 METRO SON 100 CENTÍMETROS
 $1\text{ m} = 100\text{ cm}$.

YO SÉ QUE MI ZAPATO
MIDE 25 CM DE LA
PUNTA AL TALÓN.



Recuerda que 1 zapato mide 25 cm. **Indica cuánto mide en cm el largo y ancho de la puerta.**

LARGO DE LA PUERTA cm

ANCHO DE LA PUERTA cm

No te olvides de enviar
las evidencias a la
maestra.

