

ESCOLA : _____

ALUNO(A): _____


DATA: _____

ATIVIDADE

GRÁFICO BRINCADEIRA PREFERIDA

1) A TURMA DA PROFESSORA JULIANA FEZ UMA VOTAÇÃO PARA ESCOLHER A BRINCADEIRA PREFERIDA PELOS OS ALUNOS DESTA TURMA.COM OS VOTOS OBTIDOS,ELES MONTARAM O GRÁFICO ABAIXO.

OBSERVE-O E FAÇA O QUE SE PEDE:



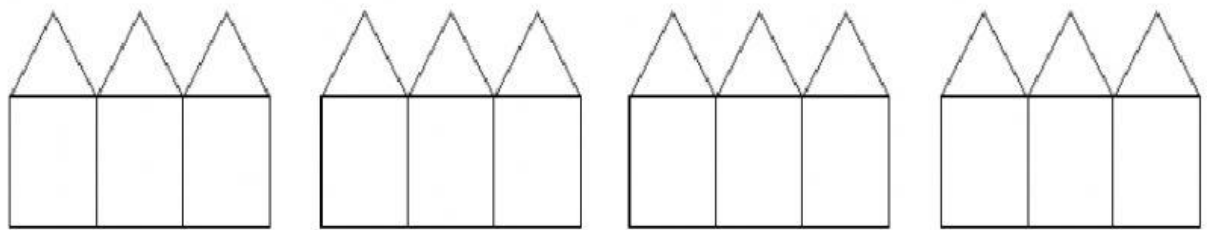
A) QUAL É A BRINCADEIRA PREFERIDA POR ESTA TURMA ?

B) QUAL É A BRINCADEIRA QUE TEVE MENOS VOTOS?


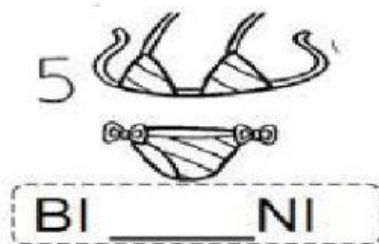
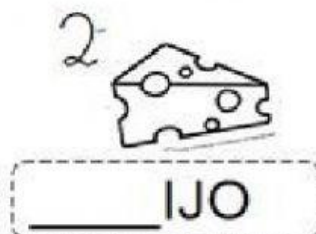

2) DE ACORDO COM O GRÁFICO, COMPLETE A TABELA ABAIXO, ESCRIVENDO O NOME DAS BRINCADEIRAS E SUA RESPECTIVA QUANTIDADE, DA MENOR PARA A MAIOR:


NOME DA BRINCADEIRA	QUANTIDADE

3) COPIE OS NÚMEROS DA TABELA E ESCREVA OS VIZINHOS DE CADA UM DELES



4) COMPLETE OS NOMES DAS FIGURAS COM : QUA, QUE OU QUI.





_____ TI

8



_____ BE

9



_____ ABO

10



CA _____