

Evaluasi Akhir Semester
Semester II Tahun Pelajaran 2020 – 2021

Kelas :
Mata Pelajaran : Matematika
Waktu : 60 menit

Nama : _____

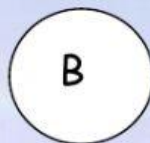

Tanggal : _____

Nilai	Tanda tangan Edukator

Kerjakan soal berikut!




1. Perhatikan gambar berikut ini!



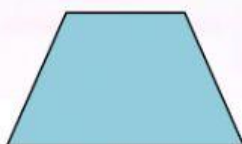
Bangun yang merupakan persegi adalah

2.



Banyaknya sisi pada gambar di samping adalah

3.



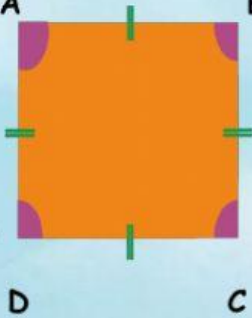
Termasuk dalam segi empat.



Nama bangun ini adalah



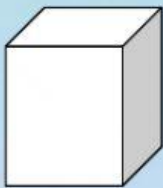
4. A



B Memiliki empat sisi yaitu



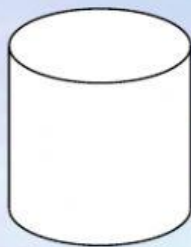
5.



Bangun yang semua rusuknya sama panjang yaitu




6.



Bentuk alas dan tutup tabung adalah



7. Letakkan bentuk di tempat kosong sesuai dengan pola barisan!



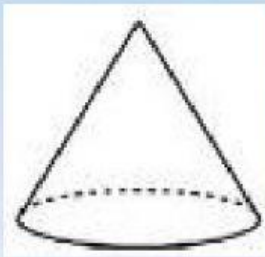


8. Lengkapi pola barisan bangun ruang berikut dengan bangun di bawah ini!





9.



Nama bangun di samping adalah

10.




Jarum pendek menunjukkan



Jarum panjang menunjukkan

11.



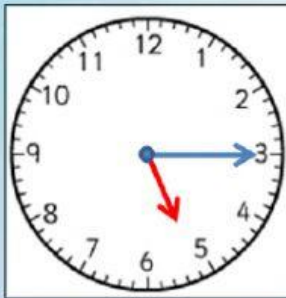
Gambar di samping menunjukkan pukul

12.



Gambar di samping menunjukkan pukul

13.



Gambar di samping menunjukkan pukul



14. Lambang bilangan jam 7 malam adalah



15. Sandu mulai belajar di sekolah pukul 07.00 selesai belajar pukul 10.00. Sandu

belajar selama

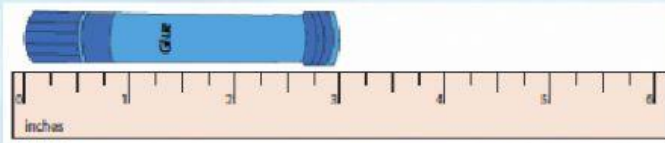
jam.

21



Panjang pensil =

x panjang paper clip



16.




Panjang lem adalah cm.

17.



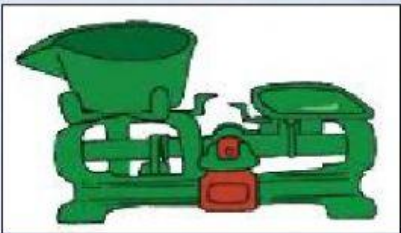
Panjang pensil dari pada panjang crayon.

18.




Alat ukur di samping untuk mengukur

19.



Alat ukur di samping untuk mengukur

20.



Alat ukur tidak baku yang disebut



21. Isilah kotak dengan kata " berat" atau "ringan" pada gambar berikut ini!




berat



ringan

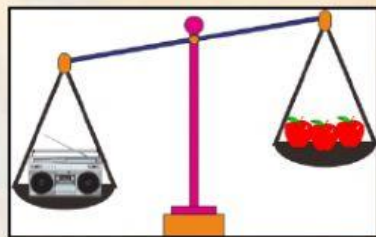
22.



Urutan binatang dari yang paling berat adalah

 , , 

23.



Jika Nicho membawa 1 radio, maka

beratnya sama dengan berat

apel



24. Berat badan Sekar 32 Kg dan berat badan Aya 29 Kg. Dari hasil penimbangan, berat badan yang lebih ringan adalah berat badan