

**Evaluasi Akhir Semester**  
**Semester II Tahun Pelajaran 2020 – 2021**

**Kelas** :   
**Mata Pelajaran** : Matematika  
**Waktu** : 60 menit

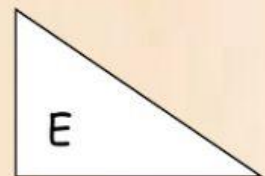

**Nama** : \_\_\_\_\_

**Tanggal** : \_\_\_\_\_

Nilai	Tanda tangan Edukator

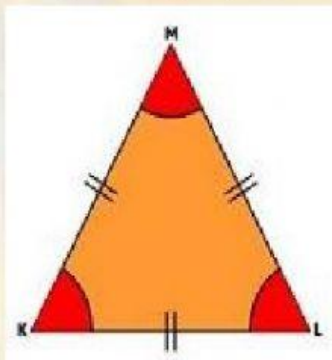
Kerjakan soal berikut!

1. Perhatikan gambar berikut ini!



Bangun-bangun yang merupakan lingkaran adalah

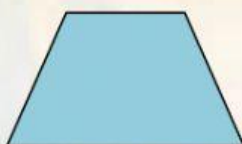
- 2.



Sebutkan sudut dari bangun di samping!

3. Banyaknya sisi pada lingkaran ada

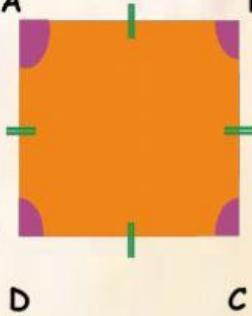
- 4.



Termasuk dalam segi empat.

Nama bangun ini adalah

5. A B Memiliki empat sisi yaitu



6. Jumlah titik sudut pada bangun layang-layang ada

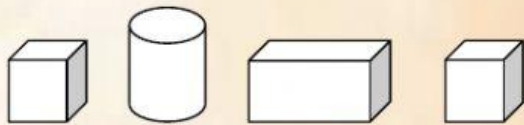
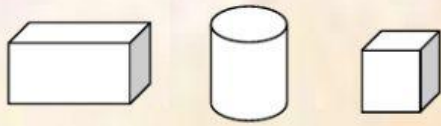
7. Bangun yang semua rusuknya sama panjang yaitu

8. Bentuk alas dan tutup tabung adalah

9. Letakkan bentuk di tempat kosong sesuai dengan pola barisan!

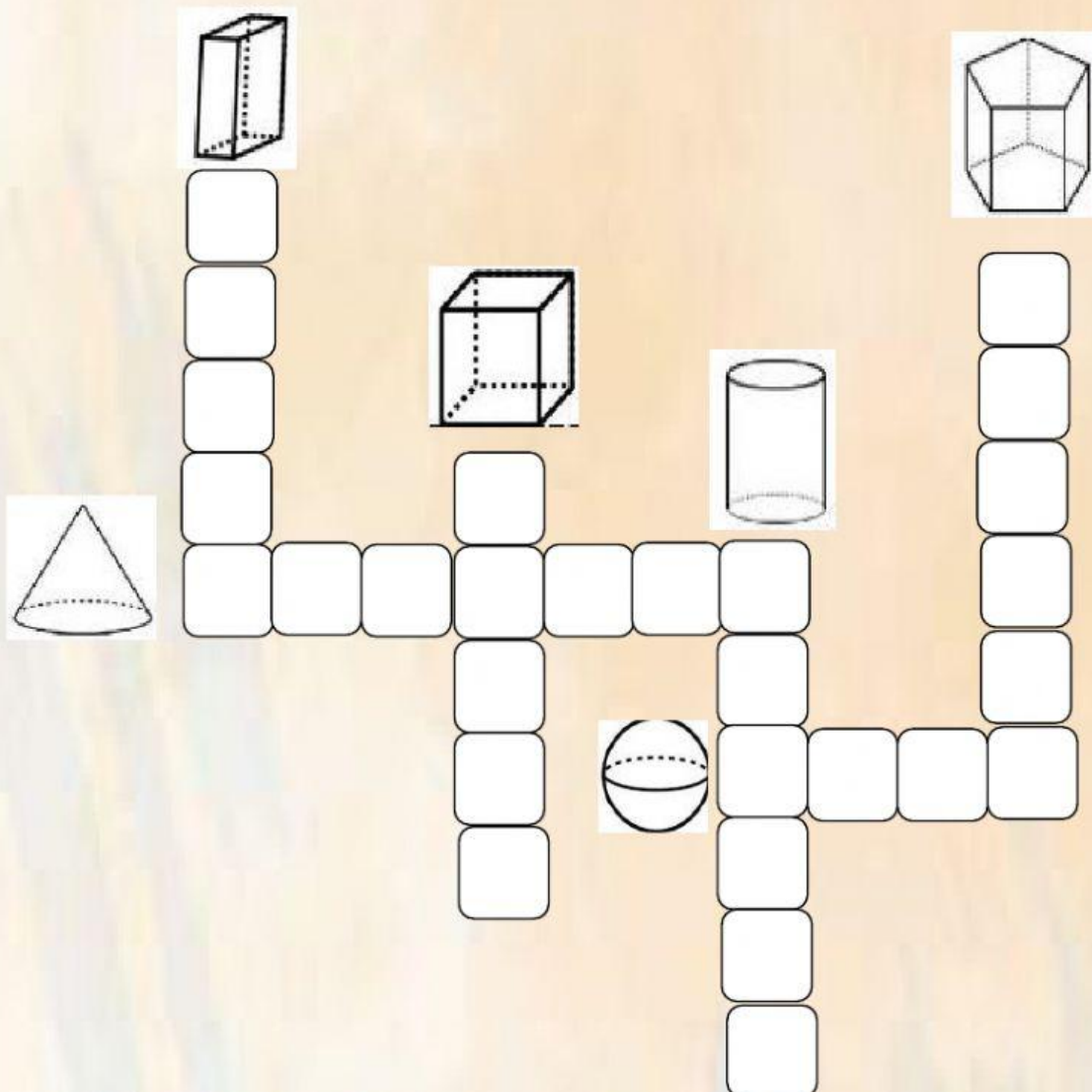


10. Lengkapi pola barisan bangun ruang berikut dengan bangun di bawah ini!



\_\_\_\_\_

11. Isi teka teki dengan nama bangun ruang!





12.



Jarum pendek menunjukkan

Jarum panjang menunjukkan

13.




Jarum panjang bergeser dari angka 12 ke angka 1.

Jika kita hitung akan melewati 5 garis kecil.

Artinya  menit.

14.



Jarum pendek menunjukkan angka 11.

Jarum panjang menunjukkan angka 12.

Dibaca pukul ..

Ditulis pukul ..

15.



Jarum pendek berada diantara angka 9 dan 10.

Jarum panjang menunjukkan angka 6.

Dibaca :

Ditulis :

16. Diwang bangun pagi jam setengah 5. Jarum panjang menunjukkan angka 6 dan

jarum pendek berada di antara angka

dan

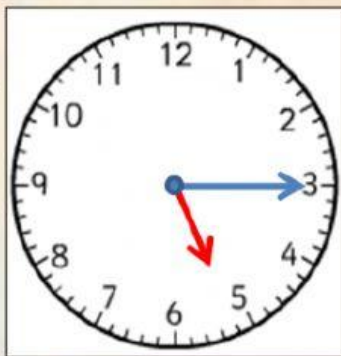
17. Lambang bilangan jam 7 malam adalah

18. Sandu mulai belajar di sekolah pukul 07.00 selesai belajar pukul 10.00. Sandu

belajar selama

jam.


19.



Dibaca pukul


Ditulis pukul

21



Panjang penggaris =

x panjang paper clip



20.

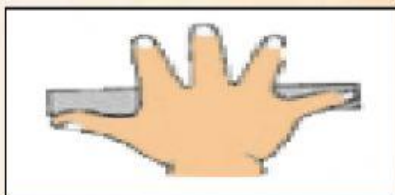
Panjang sisir adalah  cm.

21.



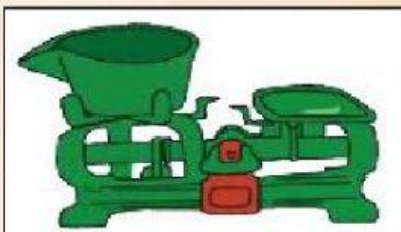
Panjang crayon  dari pada panjang pensil.

22.



Alat ukur tidak baku di samping disebut

23.



Alat ukur di samping untuk mengukur

24. Isilah kotak dengan kata "berat" atau "ringan" pada gambar berikut ini!




berat

ringan



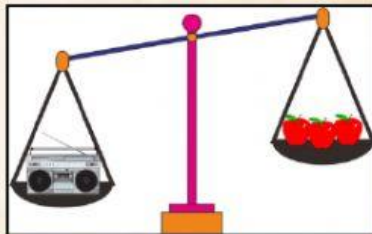
25.



Urutan binatang dari yang paling berat adalah

 ,  , 

26.



Jika Nicho membawa 1 radio, maka

beratnya sama dengan berat  apel

27. Berat badan Sekar 32 Kg dan berat badan Aya 29 Kg. Dari hasil penimbangan, berat badan yang lebih ringan adalah berat badan