


Proporcionalidad

Completa las siguientes
tablas de
proporcionalidad



Cantidad de kilómetros recorridos por hora.

Km	200	300		
Horas	4		8	10

Cuántos km recorre en 8 horas _____.

Cantidad de revistas que se imprimen por
hora.

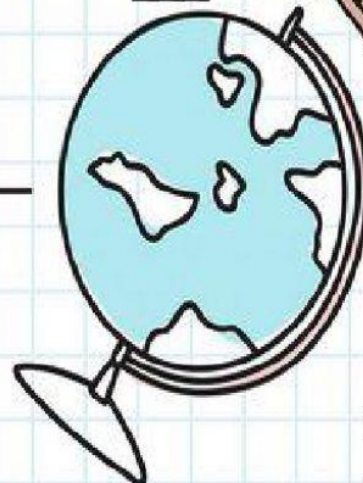
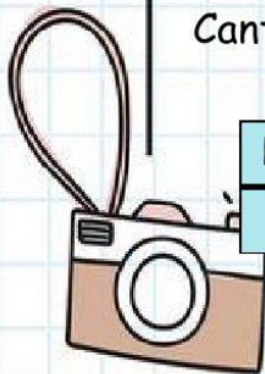
Horas	1		3		5
Revistas	110	220		440	

Cuántas revistas se imprimen en 5 horas _____.

Cantidad de días que tardan los hombres
en montar una cerca.

Hombres	1	2		8
Días	40		10	

Cuántos días tardan 8 hombres
en montar una cerca _____.



Licet Espinoza

2