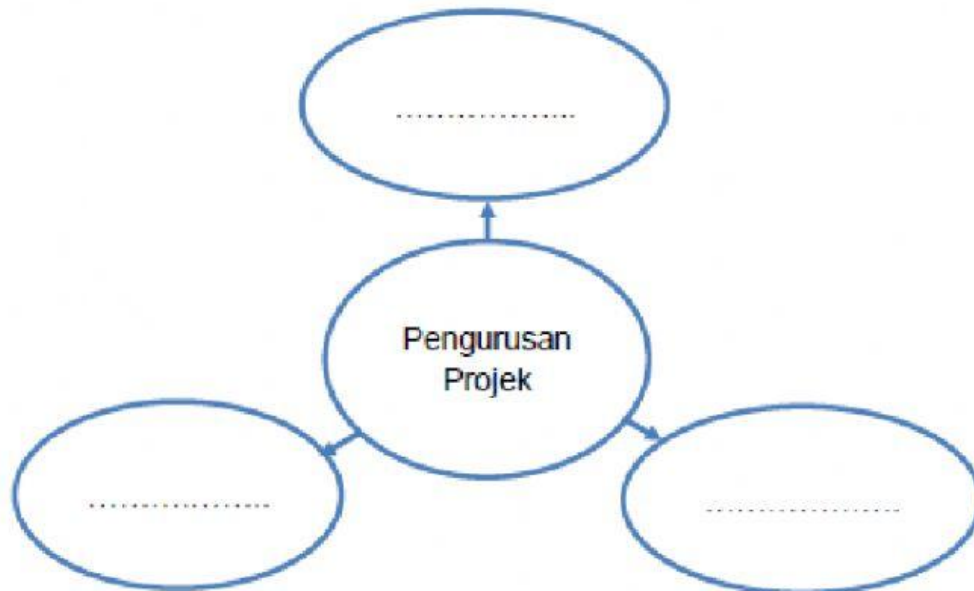


Sila tulis jawapan yang betul di ruang yang disediakan

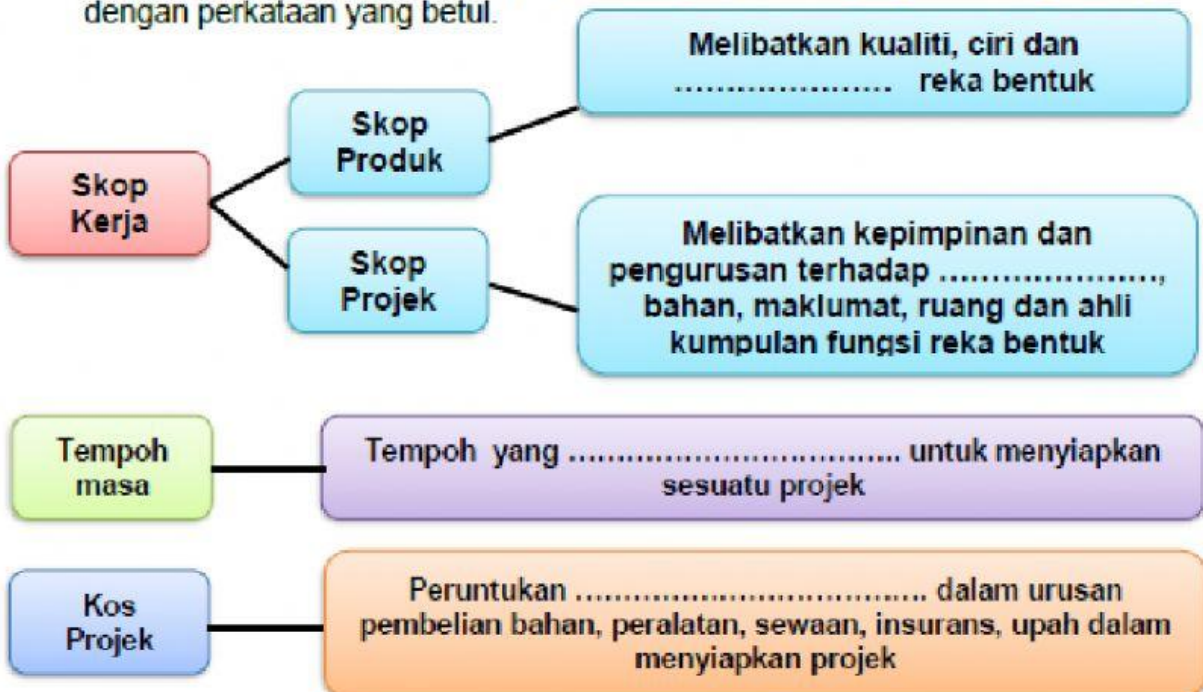
Nama:.....

Kelas:..... Tarikh:.....

1. Rajah di bawah mewakili pengurusan projek. Lengkapkan ruangan kosong dengan jawapan yang betul.



2. Rajah di bawah menunjukkan pengurusan projek. Lengkapkan ruang kosong dengan perkataan yang betul.



Isi tempat kosong dengan perkataan yang betul.

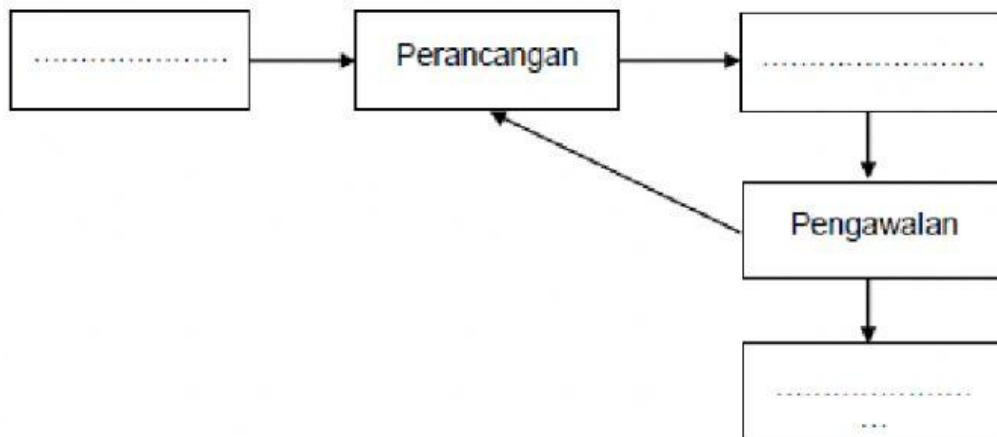
A apa sahaja yang terdapat di persekitaran dan menukarkannya ke dalam bentuk produk

B Mempelbagaikansesuatu objek

C Menukar objek

D objek

1. Rajah di bawah menunjukkan carta alir pengurusan projek. Isikan tempat kosong dengan jawapan yang betul.



2. Padankan pilihan jawapan dengan betul.

A
Memulakan
Penjadualan
Menamatkan
Pengawalan
Perancangan

B
melibatkan reka bentuk, kaedah pembinaan, kos, masa dan pekerja.
apabila projek selesai dan diserahkan kepada pelanggan.
mengawal penggunaan sumber, kos, kualiti, tenaga, bahan dan sebagainya.
aktiviti pertama dalam pengurusan projek iaitu apabila menerima tempahan daripada pelanggan.
anggaran masa untuk projek siap bagi mengelakkan pembaziran masa dan kos.