






FIGURAS Y SILENCIOS

iii LEE , PIENSA Y CONTESTA!!!

1- ¿ COMO SE LLAMAN LAS SIGUIENTES FIGURAS MUSICALES? MARCA CON UNA X LO CORRECTO .

 =	<table border="1"><tr><td>NEGRA</td></tr><tr><td>REDONDA</td></tr></table>	NEGRA	REDONDA	 =	<table border="1"><tr><td>CORCHEA</td></tr><tr><td>NEGRA</td></tr></table>	CORCHEA	NEGRA
NEGRA							
REDONDA							
CORCHEA							
NEGRA							
 =	<table border="1"><tr><td>BLANCA</td></tr><tr><td>SEMICORCHEA</td></tr></table>	BLANCA	SEMICORCHEA	 =	<table border="1"><tr><td>CORCHEA</td></tr><tr><td>SEMIFUSA</td></tr></table>	CORCHEA	SEMIFUSA
BLANCA							
SEMICORCHEA							
CORCHEA							
SEMIFUSA							
		 =	<table border="1"><tr><td>CORCHEA</td></tr><tr><td>FUSA</td></tr></table>	CORCHEA	FUSA		
CORCHEA							
FUSA							

2- ¿ COMO SE LLAMAN LOS SIGUIENTES SILENCIOS MUSICALES? MARCA CON UNA X EL NOMBRE CORRECTO.

SILENCIOS DE:			
 =	<table border="1"><tr><td>REDONDA</td></tr><tr><td>SEMIFUSA</td></tr></table>	REDONDA	SEMIFUSA
REDONDA			
SEMIFUSA			
 =	<table border="1"><tr><td>REDONDA</td></tr><tr><td>BLANCA</td></tr></table>	REDONDA	BLANCA
REDONDA			
BLANCA			
 =	<table border="1"><tr><td>CORCHEA</td></tr><tr><td>NEGRA</td></tr></table>	CORCHEA	NEGRA
CORCHEA			
NEGRA			
 =	<table border="1"><tr><td>FUSA</td></tr><tr><td>CORCHEA</td></tr></table>	FUSA	CORCHEA
FUSA			
CORCHEA			

3- ¿ CUANTOS PULSOS DURAN LAS SIGUIENTES FIGURAS? (UNE CON FLECHAS)



A- 4 PULSOS

B- 2 PULSOS

C- 1 PULSO

D- 1 PULSO

E- MEDIO PULSO

4- ¿ CUÁNTOS PULSOS DURAN LOS SIGUIENTES SILENCIOS? (UNE CON FLECHA)



1 PULSO








2 PULSOS

MEDIO PULSO

4 PULSOS

PIENSA Y ESCRIBE EN EL RECUADRO

ORDENA DE MAYOR A MENOR LA DURACIÓN DE LOS SILENCIOS.

¿ COMO SE LLAMAN LAS 2 FIGURAS Y SUS SILENCIOS QUE DURAN 1 PULSO?

--

PIENSA!!! ES MAYOR, MENOR O IGUAL

LA.....

 ES MAYOR, MENOR O IGUAL QUE :  ? _____

 ES MAYOR, MENOR O IGUAL QUE :  ? _____

 ES MAYOR, MENOR O IGUAL QUE :  ? _____

ORDENA LAS FIGURAS DE MAYOR A MENOR VALOR

