

## Actividad complementaria



Área: Matemática

Tema: La centena

Fecha: miércoles 26 mayo de 2021



1. Observa el gráfico y completa los espacios que corresponde:



Se lee: \_\_\_\_\_

2. Relaciona correctamente las siguientes cantidades

- a. Cuatrocientos treinta y uno. ■
- b. Ciento dieciocho. ■
- c. Doscientos setenta y tres. ■
- d. Trescientos veintiséis. ■
- e. Quinientos tres. ■


. 326

. 503

. 118

. 431

. 273



3. Completa los espacios en blanco.

a. 1 decena =  unidades

b. 1 centena =  unidades

c. 4 decenas =  unidades

4. Completa los espacios en blanco.

a. 443 = 400 + 40 + 3

b. 651 =  +  +

c. 872 =  +  +

**¡FELICITACIONES!**



**¡LO LOGRASTE!**