

MATEMÁTICAS

COMPOSICIÓN Y DESCOMPOSICIÓN

- I. Realiza las siguientes descomposiciones.
Observa el siguiente ejemplo:

¿ COMO FORMARÉ EL 5?



$$\boxed{5} \text{ ES } \boxed{2} \text{ y } \boxed{3}$$

¿ COMO FORMARÉ EL 8?



$$\boxed{} \text{ ES } \boxed{} \text{ y } \boxed{}$$

$$\boxed{6} \quad \boxed{8} \quad \boxed{2} \quad \boxed{5}$$

¿ COMO FORMARÉ EL 9?



$$\boxed{} \text{ ES } \boxed{} \text{ y } \boxed{}$$

$$\boxed{5} \quad \boxed{3} \quad \boxed{9} \quad \boxed{4}$$

II. Arrastra los números que corresponden a cada composición.

Observa el siguiente ejemplo.



2 y 3 es 5



y es

3

2

4

7



y es

5

8

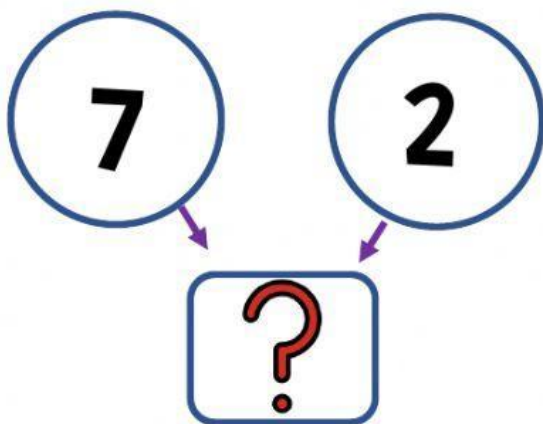
2

3

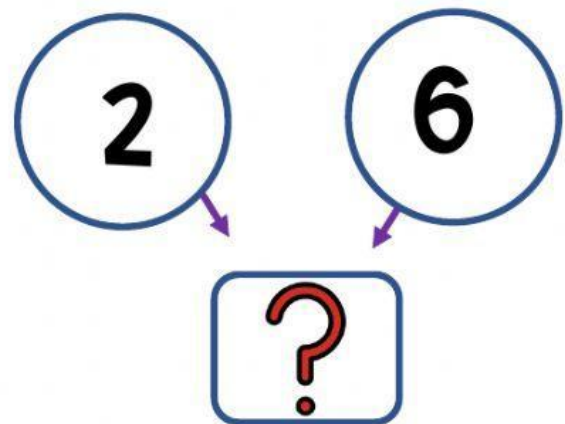


COMPONER

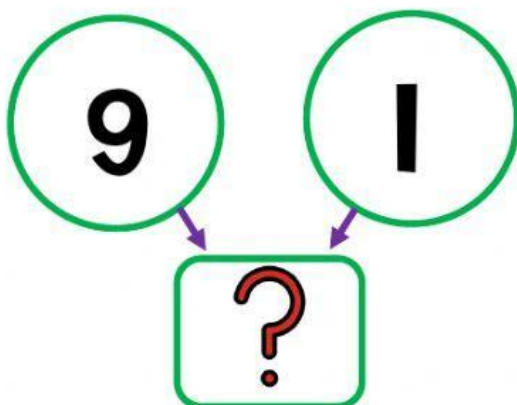
III. **S**elecciona los números para poder componer en cada situación.




9 7 8



9 7 8



6 10 7



5 1 2

DESCOMPONER

IV. **S**elecciona los números correctos para poder descomponer en cada situación.

