



























Tema: Pictogramas

Actividad 1: Completa la información tomando en cuenta el valor asignado a cada pictograma.










MESES	CANTIDAD DE LIBROS	CANTIDAD	PICTOGRAMA
SEPTIEMBRE	   		 = 10
OCTUBRE	       		 = 5
NOVIEMBRE	       	65	
DICIEMBRE	   		


¿Cuántos libros se presentaron durante el mes de Septiembre?

¿Cuántos libros se presentaron durante el mes de Diciembre y Noviembre?

¿Cuántos libros se presentaron en el mes de Octubre?

Actividad 2: Completa la tabla tomando en cuenta que cada vaso de jugo representa la cantidad de 100.

Jugos vendidos		
Piña		100
Papaya	 	
Fresa	   	
Naranja	  	



¿Cuántos jugos de papaya se han vendido?

¿Cuál es la cantidad entre jugos de fresa y naranja que se han vendido?

¿Cuál es el cantidad entre jugos de piña, papaya y fresa?

Recuerda continuar manteniendo el uso de la mascarilla y el distanciamiento adecuado.

