



7. RETO REICHE. EL GABINETE O TORRE



1. UNE LA IMAGEN DEL DISPOSITIVO CON LA CASILLA QUE CORRESPONDE SU NOMBRE.

IMPRESORA PANTALLA TECLADO PARLANTES

GABINETE CÁMARA WEB MOUSE



2. RESPONDE:


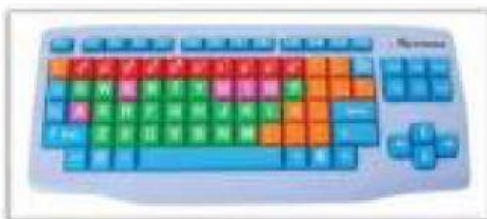
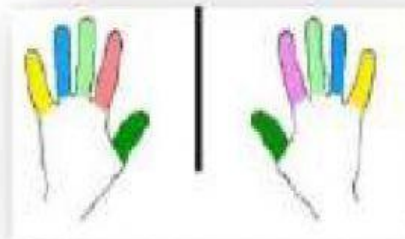
a. En que parte de un ordenador se encuentra el CPU:

b. Las siglas CPU significa:


c. El CPU se considera el:

d. El Botón de encendido del gabinete se llama:

3. UNE CON UNA LINEA LA PARTE DEL ORDENADOR CON LA PARTE DEL CUERPO QUE SE RELACIONA.



4. ARRASTRA EL NOMBRE DE CADA PARTE DEL GABINETE DONDE CORRESPONDE, (lee tu ficha teórica antes).



BOTÓN POWER

LECTORA CD / DVD

LECTOR DE TARJETAS DE MEMORIA

CONECTORES PARA AUDÍFONOS

BOTÓN RESET

PUERTOS USB