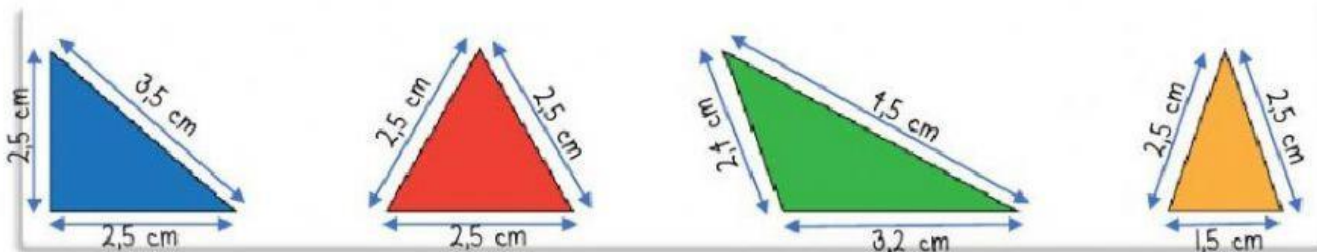


1. Unir con Líneas:

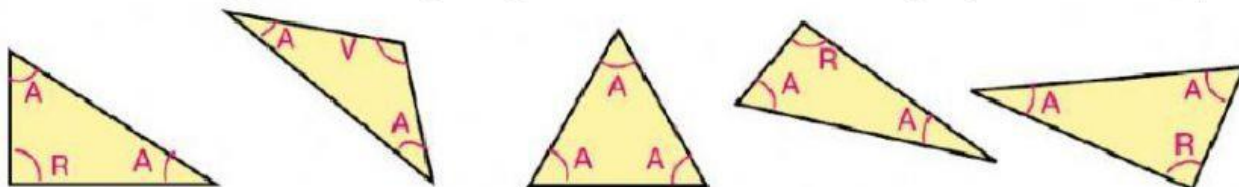
EQUILÁTERO
RECTÁNGULO
OBTUSÁNGULO
ISÓSCELES
ACUTÁNGULO
ESCALENO

1 ángulo obtuso
2 lados iguales
3 lados iguales
1 ángulo recto
3 lados desiguales
3 ángulos agudos


2. Observa los siguientes triángulos y selecciona sus nombres según **"sus lados"**:



3. Observa los siguientes triángulos y selecciona sus nombres según **"sus ángulos"**:



4. Observa los siguientes triángulos y marca con una X las casillas correspondientes:



	EQUILÁTERO	ISÓSCELES	ESCALENO	RECTÁNGULO	ACUTÁNGULO	OBTUSÁNGULO
1						
2						
3						
4						