






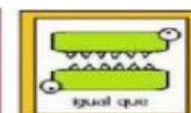


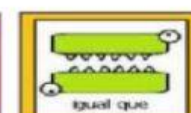



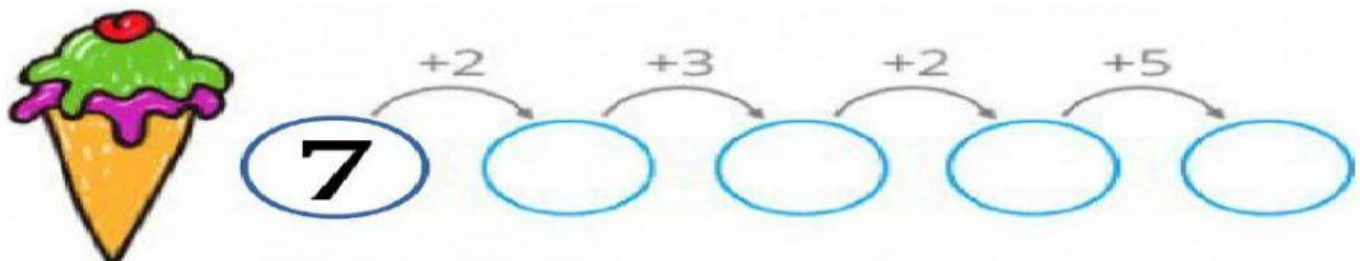
SBSG - UNIDAD EDUCATIVA PARTICULAR MATILDE AMADOR SANTISTEVAN
PRUEBA DE DIAGNÓSTICO DE MATEMÁTICA

TERCERO A – B – C

1.- ARRASTRA EL SIGNO QUE CORRESPONDA EN QUE CADA FILA (MAYOR QUE- MENOR QUE - IGUAL QUE)

74		64			
69		96			
42		42			
35		53			

2.-REALIZA LA SIGUIENTE SECUENCIA DE SUMA.

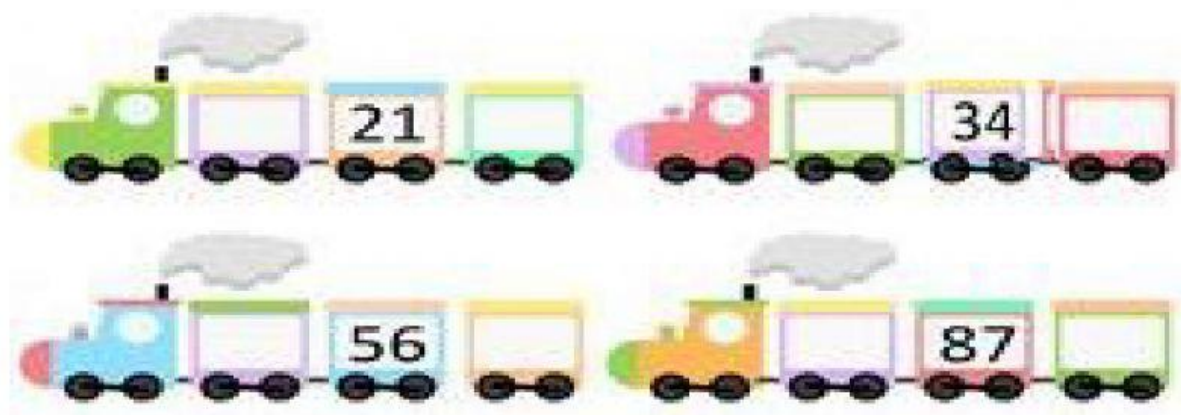


3.-UNE CON LÍNEA EL NUMERAL CON SU ESCRITURA CORRECTA

VEINTISEIS
OCHENTA Y DOS
QUINCE
CUARENTA

15
40
26
82

4.- ESCRIBE EL NÚMERO QUE VA ANTES Y DESPUÉS DE CADA BAGÓN DEL TREN.



5.- ORDENA DE MAYOR A MENOR LAS SIGUIENTES CANTIDADES.

