



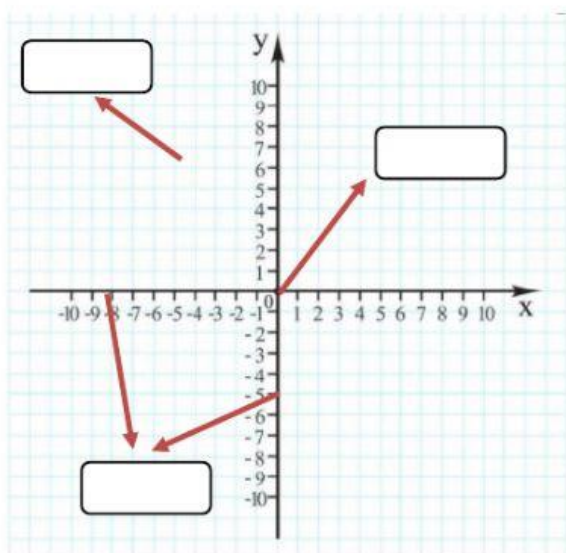
REMEDIAL DE GEOMETRÍA

GRADO SEXTO

SEGUNDO PERIODO

Nombre: _____ Curso: _____ Fecha: _____

1. Señala las partes del plano cartesiano:



2. Escribe el orden correcto del par ordenado para escribir correctamente la coordenada según los ejes:

(_____, _____)

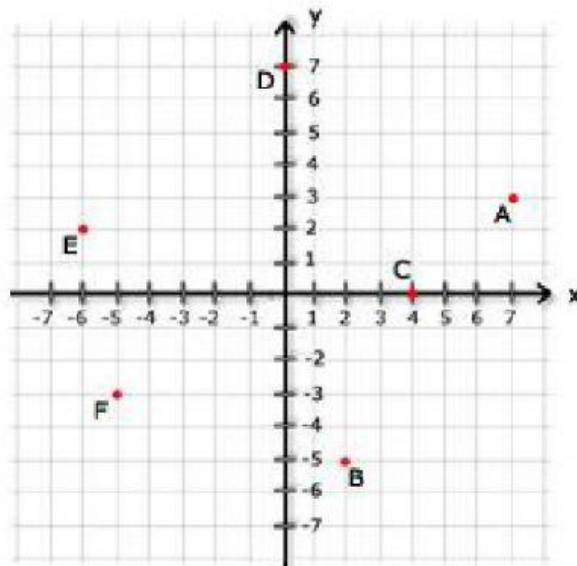
3. Escribe el cuadrante al que pertenece cada coordenada:

- a) A (-5,-5): _____
- b) B (8,6): _____
- c) C (-3, 4): _____
- d) D (6,-7): _____
- e) F (-9,1): _____

4. Escribe una coordenada como ejemplo en el cuadrante respectivo:

- ✓ CUADRANTE 1: _____
- ✓ CUADRANTE 2: _____
- ✓ CUADRANTE 3: _____
- ✓ CUADRANTE 4: _____
- ✓ CUADRANTE 1: _____

5. Escribe el punto coordenado respectivo en la figura:

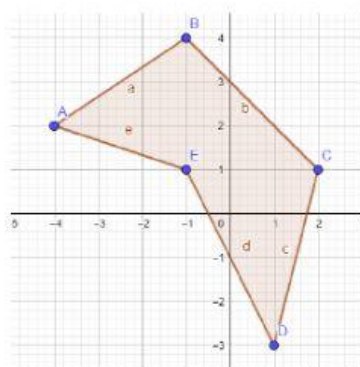


6. Escribe en el espacio cuál de estos cuatro elementos se utiliza para la construcción de polígonos en el plano cartesiano:

✓ Los lados - Los vértices - Los ángulos - Las diagonales.

7. Selecciona la imagen correcta que corresponde a las coordenadas A (-4,2), B (-1,4), C (2,1), D (1, -3), E (-1,1) para formar el polígono:

A.



B.

