




أسئلة موضوعية-2-G6-ف-2-اختبار تحصيلي-رياضيات

الجزء
الأول

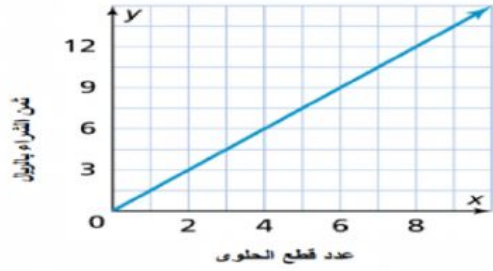
اختر الإجابة الصحيحة وذلك بوضع علامة X داخل المربع المجاور للإجابة الصحيحة:

السؤال رقم (1)	الدرجة (2)
ما حل المعادلة؟ $y \div 2 = 5$ <p><input type="checkbox"/> A 7 <input type="checkbox"/> B 8 <input type="checkbox"/> C 9 <input type="checkbox"/> D 10</p>	

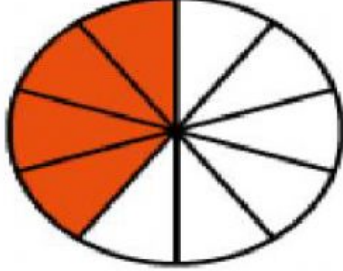
السؤال رقم (2)	الدرجة (2)
ما خاصية المساواة التي استعملت فيما يلي. $3m + 4 = 19$ $3m + 4 - 4 = 19 - 4$ <p><input type="checkbox"/> A خاصية الجمع للمساواة <input type="checkbox"/> B خاصية الطرح للمساواة <input type="checkbox"/> C خاصية الضرب للمساواة <input type="checkbox"/> D خاصية القسمة للمساواة</p>	

الدرجة (2)	السؤال رقم (3)
<p>ما المتباينة الممثلة على خط الأعداد التالي؟</p> 	
<p><input type="checkbox"/> A $m > 5$</p> <p><input type="checkbox"/> B $m < 5$</p> <p><input type="checkbox"/> C $m \leq 5$</p> <p><input type="checkbox"/> D $m \geq 5$</p>	

الدرجة (2)	السؤال رقم (4)
<p>ما النسبة التي تكافئ النسبة 6:8 ؟</p>	
<p><input type="checkbox"/> A 4:6</p> <p><input type="checkbox"/> B 3:5</p> <p><input type="checkbox"/> C 3:4</p> <p><input type="checkbox"/> D 4:3</p>	

الدرجة (2)	السؤال رقم (5)
<p>يعرض التمثيل البياني العلاقة بين عدد قطع الحلوى وثمان الشراء بالريال. أي نقطة على التمثيل البياني تمثل قطع الحلوى اللازم شراؤها بسعر 9 ريال؟</p>	
<p><input type="checkbox"/> A 2</p> <p><input type="checkbox"/> B 4</p> <p><input type="checkbox"/> C 6</p> <p><input type="checkbox"/> D 8</p>	
	

الدرجة (2)	السؤال رقم (6)
<p>ما التحويل المكافئ لسعة إبريق من عصير الليمون قدرها 5.5 لتر.</p> <p><input type="checkbox"/> A 55 mL</p> <p><input type="checkbox"/> B 0.055 kL</p> <p><input type="checkbox"/> C 550 mL</p> <p><input type="checkbox"/> D 5500 mL</p>	

الدرجة (2)	السؤال رقم (7)
<p>ما النسبة المئوية التي يمثلها الجزء المظلل في الشكل المبين؟</p>	
	
<p><input type="checkbox"/> A 4%</p> <p><input type="checkbox"/> B 10%</p> <p><input type="checkbox"/> C 40%</p> <p><input type="checkbox"/> D 60%</p>	

الدرجة (2)	السؤال رقم (8)
<p>ما النسبة المئوية للعدد 7 من 50 ؟</p> <p><input type="checkbox"/> A 7%</p> <p><input type="checkbox"/> B 10%</p> <p><input type="checkbox"/> C 14%</p> <p><input type="checkbox"/> D 15%</p>	

الدرجة (2)	السؤال رقم (9)
ما نوع الجسم للشبكة المجاورة	
<p>A هرم ثلاثي</p> <p>B هرم رباعي</p> <p>C منشور ثلاثي</p> <p>D منشور مستطيل</p>	

الدرجة (2)	السؤال رقم (10)
مساحة متوازي الأضلاع المجاور؟	
<p>A 20 Cm^2</p> <p>B 24 Cm^2</p> <p>C 48 Cm^2</p> <p>D 60 Cm^2</p>	

انتهى الجزء الأول من الاختبار