

## Escritura de números decimales

1. La cantidad de desinfectante que se recomienda para verduras es tres mililitros y setenta y cinco milésimas de mililitro. ¿Cuál dosificador muestra la cantidad de desinfectante adecuada?

A



B



C




D

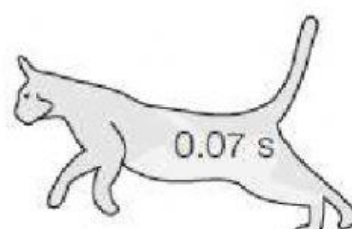


2. La capacidad de reacción de un felino es de siete milésimas de segundo. ¿En cuál imagen se muestra el tiempo de reacción?

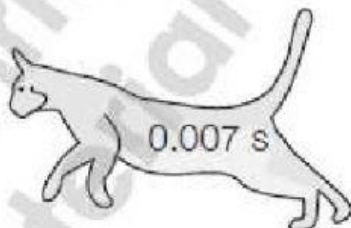
A



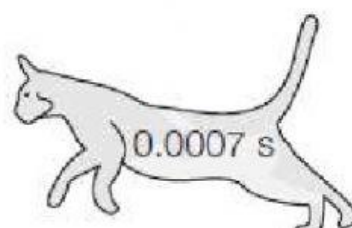
B



C

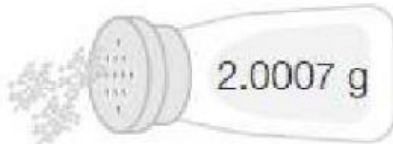


D



3. Natalia se enfermó y el médico le recomendó consumir solamente dos gramos con siete miligramos de sal en cada comida. ¿Cuál salero muestra la porción de sal que debe consumir Natalia?

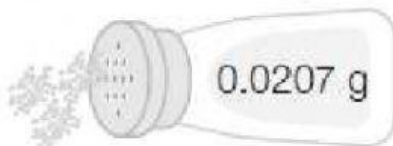
A



B



C



D



4. Un foco ahorrador alcanza su máxima intensidad en cuatro segundos con tres centésimas. ¿Cuál opción muestra el tiempo que tarda el foco en iluminar al máximo?

A



B



C



D

