

Resuelve:

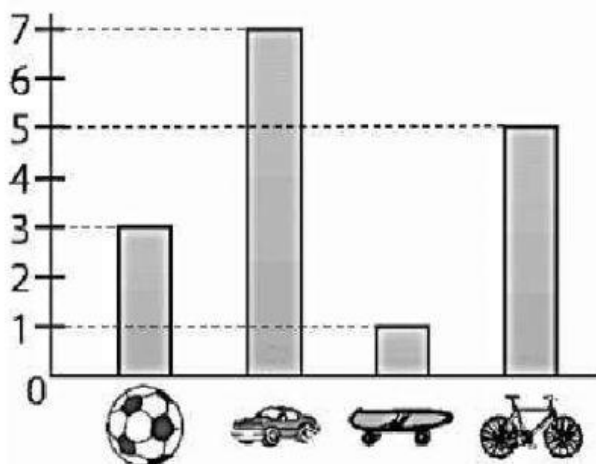
$$16 + 14 + 5$$

Ahora marca tu respuesta :

- ☐ a) 35
☐ b) 32
☐ c) 34

Observa el gráfico que hizo Marcos para contabilizar los juguetes que tiene.

Con la información anterior contesta las preguntas



- ¿Cuántas tiene?
- ¿Cuántos tiene?
- ¿Cuántas tiene?
- ¿Cuántos tiene?

2. El total de juguetes que tiene Marcos es:

- a) 7 b) 5 c) 16 d) 12

3. Marcos tiene más pelotas que.

- a) Carros b) patinetas c) canicas d) bicicletas.

4. Reuniendo pelotas y carros. Marcos tiene:

- a) 3 juguetes b) 10 juguetes c) 7 juguetes d) 21 juguetes.

Observa el mueble con juguetes de Sonia.



En la escuela le pidieron que llevara el animal de juguete que más le gusta, ella escogió el que está abajo del oso y a un lado del perro. ¿cuál es el animal que escogió?

- ☐ a el conejo
- ☐ b la gallina
- ☐ c la llama

Tres niños tienen canicas rojas y azules como se indica en el cuadro siguiente.

Niños	Canicas		Total
	Rojas	Azules	
Mario	17	34	?
Pedro	27	28	?
Oscar	13	30	?

¿Quién de ellos tiene más canicas?

- ☐ a Mario
- ☐ b Pedro
- ☐ c Oscar

7. Suma de 2 en dos y completa la secuencia.

$$\boxed{34} + \boxed{} + \boxed{} + \boxed{} + \boxed{} + \boxed{} + \boxed{}$$

8. María tiene 28 tapas para un trabajo, su hermana le dio 14 más.


¿Cuántas tapas completo María para el trabajo?

- a) 32 b) 42 c) 52 d) 62

9. Completa



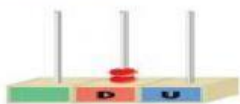
son decenas y unidades.



son decenas y unidades.



son decena y unidades.



son decenas y unidades.

10. La imagen nos representa las clases de líneas que son: _____ y _____



11. Completa las tablas escribiendo el numero que esta antes , despues y ente.

Antes	Entre	Despues
60		62
	45	
	28	
37		
55		57
17		
25		
	86	
	67	
	76	