

INSTRUMEN EVALUASI

Nama :

Kelas :

Jawablah pertanyaan berikut dengan jawaban yang tepat!

1. Sebuah segitiga sama sisi memiliki panjang sisi b cm. Rumuskanlah keliling segitiga tersebut!


2. Hitunglah keliling segitiga sembarang yang sisinya 12 cm, 13 cm dan 16 cm!

3. Sebuah segitiga sama kaki memiliki panjang sisi kaki yang sama yaitu b cm.

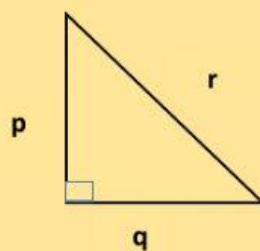
Sedangkan panjang sisi alasnya c cm. Rumuskanlah keliling segitiga tersebut!



4. Diketahui keliling segitiga 150 cm, sedangkan kedua sisinya berturut-turut 30 cm dan 50 cm, berapakah panjang sisi yang lain?



5. Amati segitiga siku-siku di bawah ini! Rumuskanlah keliling segitiganya!



6. Danil akan menghias kotak dengan tutup berbentuk segitiga sama sisi.

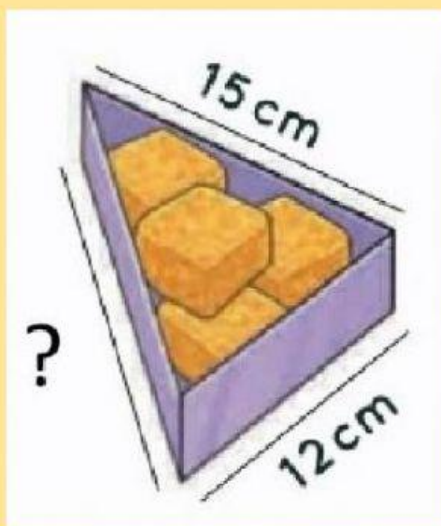
Sepanjang tepi tutupnya diberi pita merah. Jika panjang sisinya 25 cm, berapa panjang pita merah yang digunakan Danil?

7. Halaman pak Beni berbentuk segitiga siku-siku dengan ukuran sisi sesuai gambar di samping! Hitunglah keliling halaman pak Beninya!



A large, empty light blue rectangular area intended for the student to show their work or answer the question.

8. Jika tempat makan di samping memiliki keliling 45 cm. Berapa ukuran sisi miringnya?



A large, empty light blue rectangular area intended for the student to write their answer.