
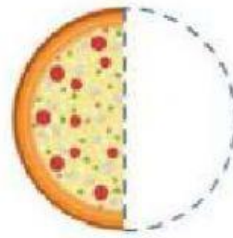
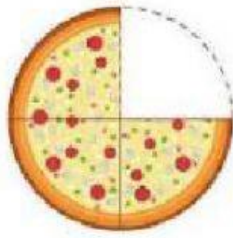
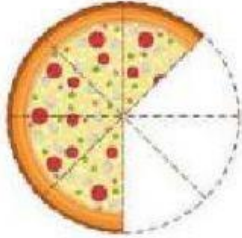




# FRACCIONES

$\frac{1}{2}$   $\frac{1}{3}$   $\frac{1}{4}$

► Une con una línea la pizza a la fracción que representa



$$\frac{1}{2}$$

$$\frac{5}{8}$$

$$\frac{1}{4}$$

$$\frac{3}{4}$$

► Analiza y selecciona la opción correcta en cada caso

1. Se van a repartir 4 barras de chocolates entre 8 niños de manera que les toque igual y no sobre, ¿Cuánto le tocará a cada niño?

$$\frac{7}{8}$$

$$\frac{4}{8}$$

$$\frac{2}{8}$$



2. Se van a repartir 2 donas entre 8 niñas de manera que les toque igual y no sobre nada. ¿Cuánto le tocara a cada niña?

$$\frac{7}{8}$$

$$\frac{4}{8}$$

$$\frac{2}{8}$$



3. Se van a repartir 7 galletas entre 8 niñas de manera que les toque igual y no sobre nada. ¿Cuánto le tocara a cada una?

$$\frac{7}{8}$$

$$\frac{4}{8}$$

$$\frac{2}{8}$$

