



CIRCUNFERENCIA Y CÍRCULO

ELEMENTOS

Ponles nombre.

Radio. Diámetro. Círculo. Centro. Circunferencia.

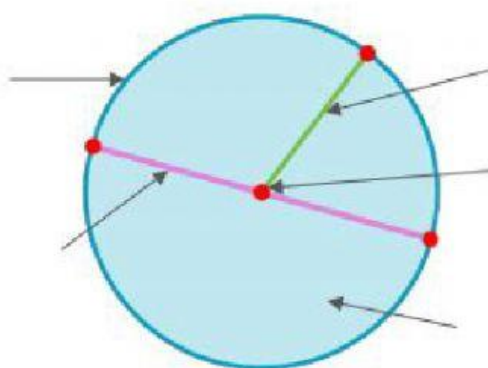
Es una **línea curva cerrada** en la que todos sus puntos están a la misma distancia de un punto llamado centro.

Es una **figura plana** formada por una circunferencia y su interior.

Es un **punto** que está a la misma distancia de cada punto de la circunferencia.

Es el **segmento** que une el centro con un punto de la circunferencia.

Es el **segmento** que une dos puntos de la circunferencia pasando por el centro.



Circunferencia

Círculo


Radio

Centro

Diámetro



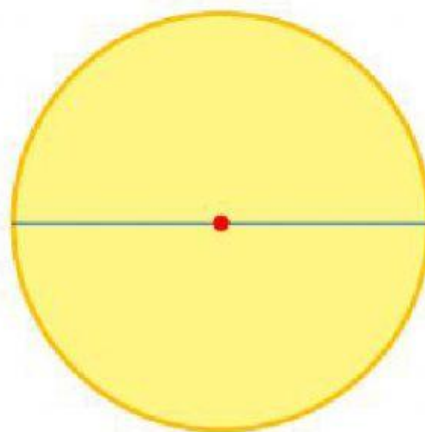
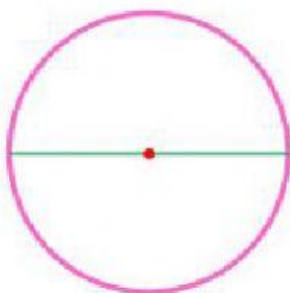
1. Cuenta. ¿Cuántas circunferencias hay? _____ ¿Y círculos? _____



2. Mide y escribe. Completa.

- El radio del círculo. _____ cm.
- El diámetro del círculo. _____ cm.
- El radio de la circunferencia. _____ cm.
- El diámetro de la circunferencia. _____ cm.
- El diámetro de un círculo o una circunferencia mide el _____ que su radio.

USA LA REGLA



DEJA AQUÍ LA
REGLA

