



UNIDAD EDUCATIVA "TEODORO WOLF"

Nombre: _____
Curso: **8 EGB** Paralelo: _____
Profesor: _____
Fecha: **Martes 26 de mayo de 2021**

Evaluación Diagnóstica
Primer Quimestre
Año Lectivo: **2 021 – 2 022**

MATEMÁTICA

1.- Una con línea según corresponda a las propiedades de la multiplicación.

Podemos agruparlos de diferentes maneras.

PROPIEDAD CONMUTATIVA

Se multiplica el factor con todos los sumandos.

PROPIEDAD ASOCIATIVA

Toda cantidad multiplicada por cero es cero

PROPIEDAD DISTRIBUTIVA

El orden de los factores no altera el producto

ELEMENTO NEUTRO

Todo número multiplicado por uno da el mismo número.

PROPIEDAD ABSORVENTE

2.- Escriba las partes de la división

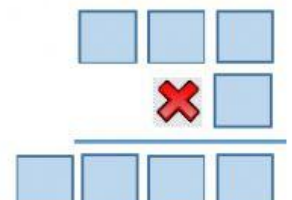
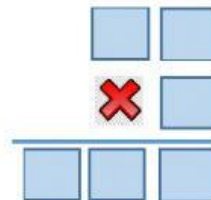
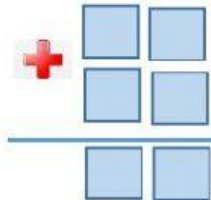
$$\begin{array}{r} \boxed{} \leftarrow 4692 \overline{) 24} \rightarrow \boxed{} \\ 229 195 \\ 132 \\ \leftarrow 12 \end{array}$$



Resuelva

3.- Cada vez que Andrea va a visitar a su abuela, recorre 47 km sólo para ir hasta el lugar donde vive. Si a la semana la va a visitar 3 veces. ¿Cuántos kilómetros recorrerá en un mes?

- A) 868 km
- B) 914 km
- C) 1128 km
- D) 1338 km
- E) 1958 km



4.- Un carro repartidor de productos lácteos contiene 3957 cartones de leche en 47 gavetas ¿Cuántos cartones de leche entran en cada gaveta?

- A) 72 cartones
- B) 74 cartones
- C) 82 cartones
- D) 84 cartones
- E) 87 cartones

