



1. Escribe el número de elementos que tiene cada conjunto



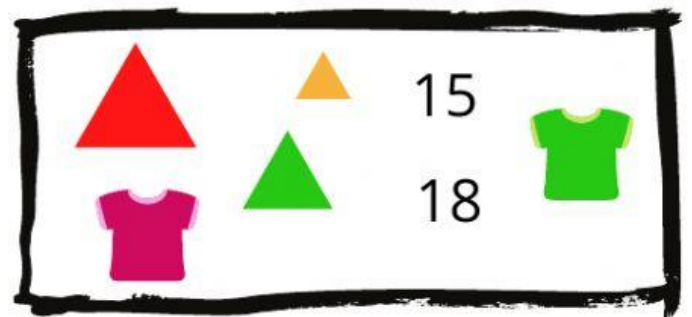

G= { a, e, i, o, u }




2. Escoge las figuras o números que completen las series



12, 13, 14, \_\_\_\_\_ 16



3. Completa las semi rectas con los números que correspondan en forma ascendente o descendente.

**Ascendente**



**Descendente**




### 3. Une con líneas según corresponda

Número

Gráfico


Se lee

35




setenta y seis

76



cincuenta y uno

51



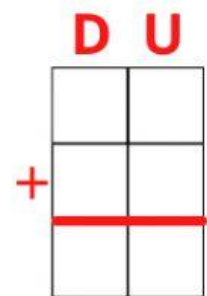
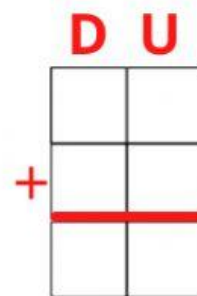
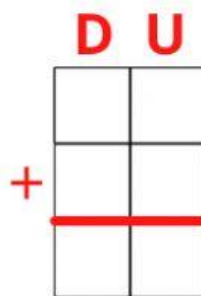
treinta y cinco

### 4. Realiza las siguientes sumas, ubica en sentido vertical y escribe los resultados

$$24 + 14 =$$

$$35 + 43 =$$

$$16 + 52 =$$



### 5. Elige que figura geométrica corresponde a cada objeto



### 6. Analiza las siguientes referencias y el número de recipientes adecuados para llenar las diferentes depósitos de líquido

