



Distrito educativo 4
RED N° 3
Unidos por la calidad educativa
#Red3ConcursoLeamosEnCasa





Señale el árbol más grande.





¿Que figura tiene forma de rectángulo?



¿Cuál de los dibujos tiene líneas rectas?



¿Qué conjunto tiene tres elementos?



PROFESORA MIRIAM ARRAZOLA