

LATIHAN SOAL MATEMATIKA KELAS 2

TEMA 6 (KD 3.6)


Namaku: _____

Kelas : _____

No absen: _____

A. Pilihlah jawaban yang paling tepat pada huruf a, b atau c

1.



Berat telur berdasarkan gambar di samping adalah ...

- a. 1 kg
- b. 2 kg
- c. 11 kg


2.






Timbangan pada gambar di samping digunakan untuk menimbang

- a. 
- b. 
- c. 

3.



Biji timbangan yang menunjukkan berat semangka adalah ...

- a. 
- b. 
- c. 

4.



Perkiraan berat semangkuk nasi pada gambar di samping adalah..

- a. 25 kg
- b. 250 gram
- c. 5 kg

B. Isilah titik-titik di bawah ini dengan benar!

5.



Berat wortel pada gambar di samping adalah 1 kg.

1 kg = ... ons.

6.



Berat ayam pada gambar di samping adalah 1 kg.

1 kg = ... gram.

C. Bandingkan berat benda di bawah ini dengan menuliskan salah satu tanda berikut:

- < jika lebih berat,
- > lebih ringan
- = jika sama berat

7		
8	 25 ons	 2 kg
9		
10	 30 ons	 3 kg