


<p>Institución Educativa Particular</p> 	<p>EXAMEN BIMESTRAL – 1ºGRADO</p> <p>CURSO: Ciencia y Tecnología.</p> <p>FECHA: 20 – 05 – 21</p>
---	---

1. ELIGE LA RESPUESTA CORRECTA SEGÚN LAS PREGUNTAS.

- ¿En qué parte gruesa tenemos ubicada las manos?

Extremidades superiores.

Tronco.

Extremidades inferiores.

- ¿En qué parte gruesa tenemos ubicado nuestro pecho?

Cabeza

Extremidades

Tronco

- ¿En qué parte gruesa tenemos ubicado nuestro rostro?

Piernas

Tronco

Cabeza

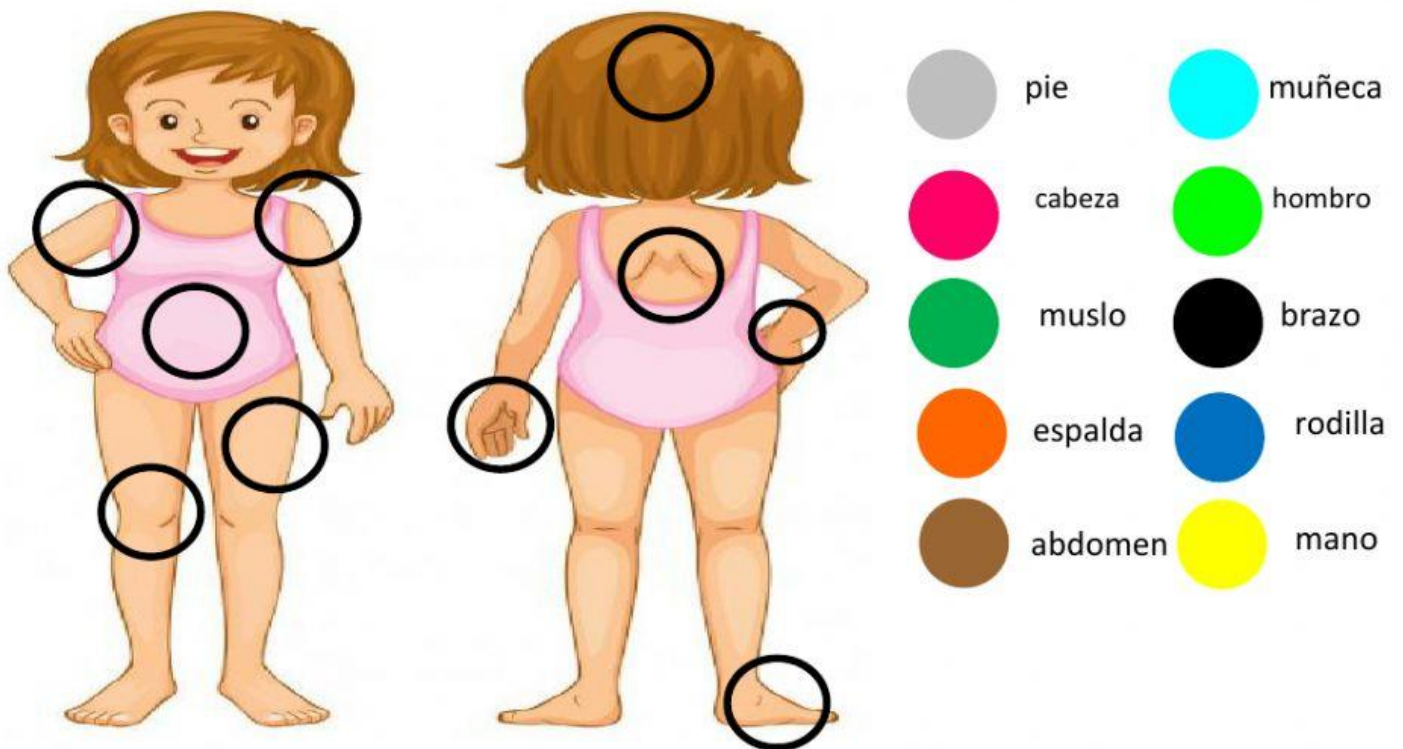
- ¿En qué parte gruesa tenemos ubicado los muslos?

Extremidades inferiores.

Pierna

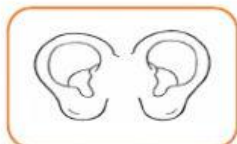
Tronco

3. ARRASTRA CADA COLOR Y UBICALO SEGÚN LA PARTE CORRESPONDE.

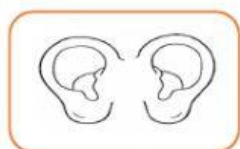


4. ELIGE LA PARTE SEGÚN CORRESPONDE.

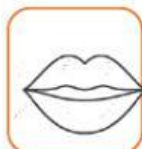
a) En mi rostro tengo dos y si los cierro no veo.



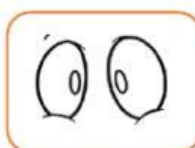
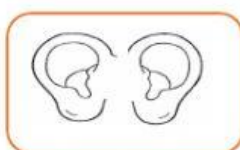
b) Es una parte con la que puedo percibir el olor de un perfume.



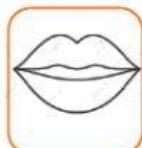
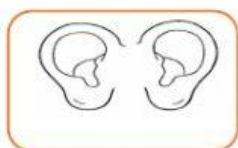

c) Es una parte que ayuda a proteger mis ojos.




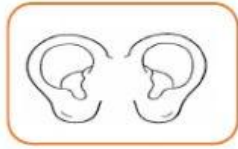

d) Es una parte de mi rostro que está encima de mis ojos.



Parte por donde ingresan los alimentos.



e) Me permite escuchar sonidos fuertes y suaves.



5. ESCUCHA Y COMPLETA LA FRASE ELIGIENDO LA PALABRA CORRECTA.

a) La muñeca deja que se mueva la...

Cabeza

Hombro

Mano

b) El tobillo permite flexionar los...

Mano

Pies

Dedos

c) El hombro permite mover los...

Piernas

Dientes

Brazos

e) La cintura me permite flexionar el...

Tronco

Cabeza

Rodilla

5. ELIGE V Ó F SEGÚN CORRESPONDA.

a) No debemos lavarnos las manos antes de comer.

V

F

b) Debemos lavarnos los dientes después de cada comida.

V

F

c) Debo mantener mi higiene personal.

V

F

d) La comida chatarra me ayudará a crecer.

V

F

e) Mi cabello debe estar limpio y ordenado.

V

F

f) Debo mantener mis uñas recortadas.

V

F

g) Me lavo las manos sin agua.

V

F

5. RELACIONA CADA ÓRGANO CON EL SENTIDO QUE CORRESPONDE.



1. Vista

2. Tacto

3. Oído

4. Gusto

5. Olfato



6. ASOCIA CADA PALABRA SEGÚN SU ORIGEN.

1. ANIMAL

1. ANIMAL

1. ANIMAL

1. ANIMAL

2. MINERAL

2. MINERAL

2. MINERAL

2. MINERAL

3. VEGETAL

3. VEGETAL

3. VEGETAL

3. VEGETAL





6. ESCUCHA EL ENUNCIADO Y ELIGE SI o NO.

a) La zanahoria es un alimento de origen vegetal.

☐

SI

NO

b) La leche es un alimento de origen animal.

☐

SI

NO

c) El aceite es un alimento de origen mineral.

☐

SI

NO

d) El agua y la sal son alimentos de origen mineral.

☐

SI

NO

6. ESCUCHA LA PREGUNTA Y ELIGE LA RESPUESTA.

a) ¿Qué ocasiona las enfermedades?

Virus y bacterias.

Realizar ejercicios

b) ¿Cuál es la enfermedad en donde todo el cuerpo se llena de puntitos rojos?

Estreñimiento

Sarampión

c) ¿Qué enfermedad ocasiona muchos estornudos?

Hongos

Gripe

d) ¿Qué síntomas tienes cuando te vas a enfermar?

Picazón

Fiebre

e) ¿Qué tomas para curarte de alguna enfermedad?

Tomo dulces.

Tomo medicinas.