

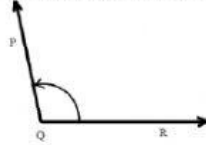


**SOAL ULANGAN MATEMATIKA  
(PENGUKURAN SUDUT)  
SD NEGERI 10 PEMECUTAN  
KELAS IV A SEMESTER 2  
TAHUN AJARAN 2020 / 2021**



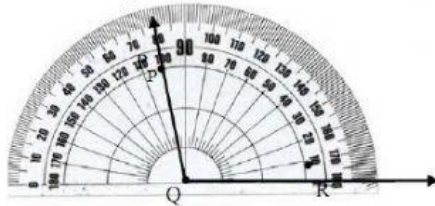
**I. Berikan tanda silang (X) pada huruf a, b, c, dan d yang dianggap paling benar!**

1. Penulisan sudut yang tepat pada gambar di bawah ini adalah ....



- a.  $\angle QRP$                       b.  $\angle RQP$                       c.  $\angle PRQ$                       d.  $\angle RPQ$

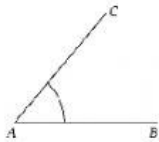
2. Perhatikan gambar di bawah ini!



Besar sudut PQR adalah....

- a.  $100^\circ$                       b.  $180^\circ$                       c.  $80^\circ$                       d.  $95^\circ$

3. Gunakan busur derajatmu untuk mengukur sudut berikut!



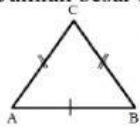
Taksiran besar sudut BAC di atas adalah ....

- a.  $130^\circ$                       b.  $50^\circ$                       c.  $70^\circ$                       d.  $90^\circ$

**II. Lengkapilah titik-titik di bawah ini dengan jawaban yang tepat !**

4. Jumlah besar sudut segitiga adalah....

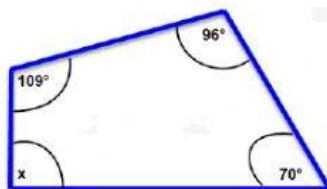
5.



Besar setiap sudut dalam dari bangun segitiga beraturan adalah....

**III. Jawablah pertanyaan di bawah ini dengan benar!**

6.



Berapakah besar sudut x sesuai dengan gambar di atas ?