













## Números ordinales

Los números ordinales indican la  u

que ocupa un .

Escribe el numero ordinal correspondiente en letras:

											
1º	2º	3º	4º	5º	6º	7º	8º	9º	10º	11º	12º
↓	↓	↓	↓	↓	↓	↓	↓	↓	↓	↓	↓
<input type="text"/>	<input type="text"/>	<input type="text"/>	<input type="text"/>	<input type="text"/>	<input type="text"/>	<input type="text"/>	<input type="text"/>	<input type="text"/>	<input type="text"/>	<input type="text"/>	<input type="text"/>
	↓	↓	↓		↓	↓	↓		↓		↓
	<input type="text"/>	<input type="text"/>	<input type="text"/>		<input type="text"/>	<input type="text"/>	<input type="text"/>		<input type="text"/>		<input type="text"/>

Identifica la posición de los animales solo marca las correctas:



- ☐ El perro se encuentra en segundo lugar
- ☐ El pez está en el quinto lugar
- ☐ El león no es el sexto
- ☐ En el séptimo lugar está el pez
- ☐ El gato ocupa el cuarto puesto
- ☐ La gallina es la segunda
- ☐ El conejo es el tercero

Une los números ordinales:

10°	vigésimo
11°	décimo
12°	décimo cuarto
13°	décimo noveno
14°	décimo segundo
15°	décimo quinto
16°	décimo séptimo
17°	décimo sexto
18°	décimo octavo
19°	décimo tercero
20°	undécimo