




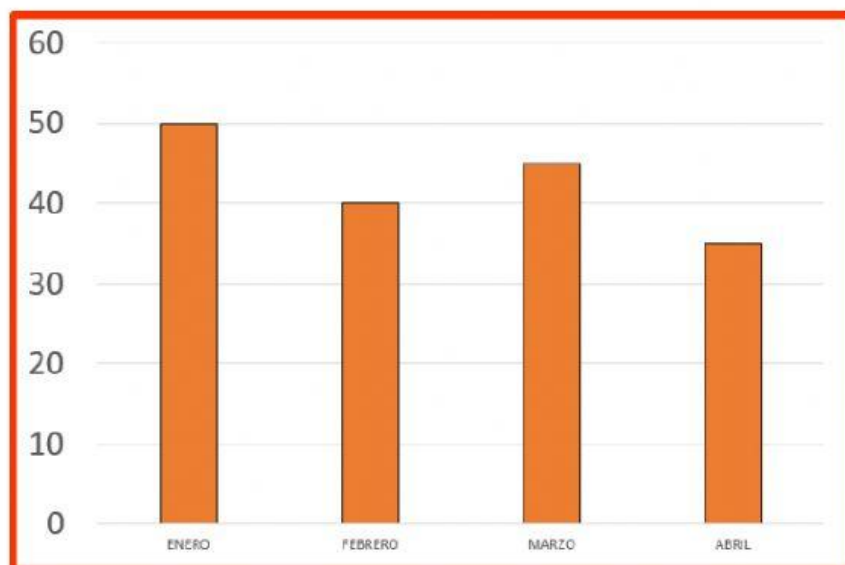
¿ME SOBRA O ME FALTA? II

- Coge un papel y un lápiz y calcula:

CUESTA	TENGO	SOBRA / FALTA	¿CUÁNTO?
	228 €	<div>Sobra</div> <div>Falta</div>	<div>€</div>
	530 €	<div>Sobra</div> <div>Falta</div>	<div>€</div>
RETO 	50 €	<div>Sobra</div> <div>Falta</div>	<div>€</div> <div>CÉNT.</div>

- Observa el gráfico de barras:

Cada barra representa los euros que hemos gastado en teléfono en los últimos cuatro meses en mi casa:



- **Señala las respuestas correctas:**

En abril hemos gastado 40 euros.

Enero es el mes en el que más hemos gastado.

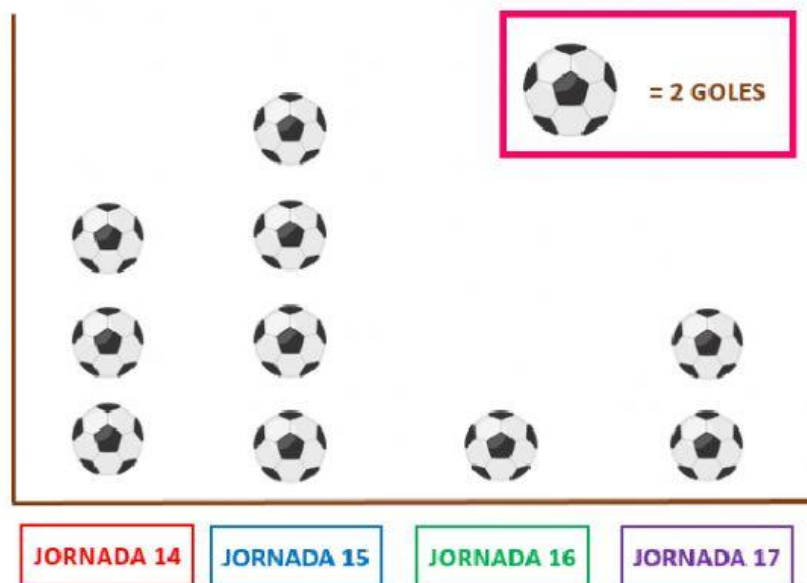
En febrero hemos gastado más dinero que en marzo.

En marzo hemos gastado 45 euros.

- **¿Cuánto dinero hemos gastado en total?**

En total hemos gastado euros.

- En el siguiente gráfico representamos los goles marcados por el equipo del Cossío en las últimas jornadas. Cada balón equivale a dos goles.



- ¿Cuántos goles han marcado en la jornada 15?
- ¿Cuántos goles **menos** han marcado en la jornada 16?
- ¿Cuántos goles han marcado entre las dos últimas jornadas?