

اسم الطالبة :

عنوان: الطقس

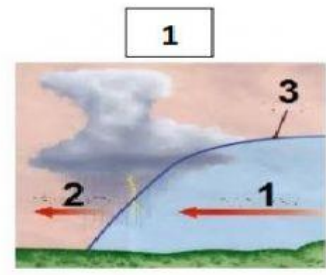
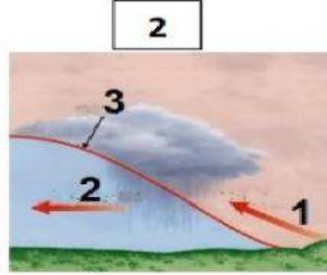
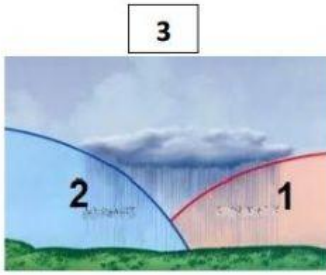
نواتج التعلم : معرفة أنواع الجبهات

أولاً: حددي نوع الجبهات في نموذج التالي بالسحب

الجبهة الباردة

الجبهة الثابتة

الجبهة الدافئة



ثانياً: إلى ماذا يشير رقم 1 و 2 في الصورة رقم (2)

كتلة هوائية باردة

1

جبهة دافئة

2

كتلة هوائية دافئة

3

أ. فاطمة القرشي