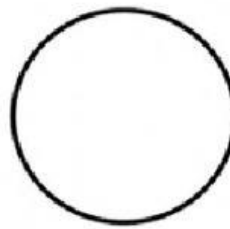

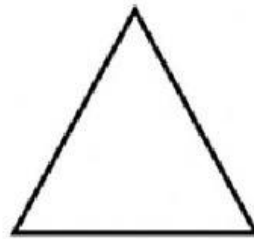

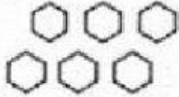



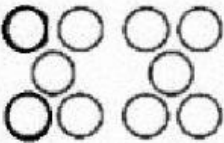






ACTIVIDAD 2.

1. Arrastra la imagen del lado izquierdo hasta su figura idéntica del otro lado.



2. Une con una línea el conjunto de imágenes con el número que corresponda

	•	• 3		•	• 8
	•	• 5		•	• 9
	•	• 4		•	• 7
	•	• 1		•	• 6
	•	• 2		•	• 10

3. Selecciona la respuesta correcta.

a. ¿Cuál de estos polígonos es un pentágono?



1. ☐



2. ☐



3. ☐



4. ☐

b. ¿Cuál de estos polígonos es un triángulo?



1. ☐



2. ☐



3. ☐



4. ☐