























Tema: Pictogramas

Actividad 1: Completa la información teniendo en cuenta la frecuencia.

MESES	CANTIDAD DE LIBROS	CANTIDAD
SEPTIEMBRE	   	
OCTUBRE	      	
NOVIEMBRE	      	65
DICIEMBRE	   	

FRECUENCIA:
 = 10
 = 5











¿Cuántos libros se presentaron durante el mes de Septiembre?

¿Cuántos libros se presentaron durante el mes de Diciembre y Noviembre?

¿Cuántos libros se presentaron en los cuatro meses?

Actividad 2: Completa las cantidades de jugos vendidos teniendo en cuenta que cada vaso de jugo representa la cantidad de 100.

Jugos vendidos

Piña		100
Papaya	 	
Fresa	   	
Naranja	  	



¿Cuántos jugos de papaya se han vendido?

¿Cuál es la cantidad entre jugos de fresa y naranja que se han vendido?

¿Cuál es el cantidad entre jugos de piña, papaya y fresa?

Recuerda continuar
manteniendo el uso de
la mascarilla y el
distanciamiento
adecuado.



