



PREFEITURA MUNICIPAL DE
REDENÇÃO
SECRETARIA DA EDUCAÇÃO

SME

SECRETARIA MUNICIPAL
DA EDUCAÇÃO DE
REDENÇÃO



ATIVIDADES REMOTAS

5º ANO

MATEMÁTICA

MATERIAL DO #ESTUDO EM CASA

Aluno: _____ turma: _____


Atividade de Matemática

01-Ana precisava de dinheiro para fazer umas compras, ela foi até o caixa eletrônico sacar o dinheiro e leu a seguinte mensagem:

Este terminal eletrônico está operando apenas com as notas



Ana sacou R\$ 170,00. Ela retirou do caixa eletrônico:



2) Andreia pediu ao dono da padaria trocar a nota abaixo.



O dono da padaria repassou para Andreia:

- (A) (B) (C) (D)

3) Amanda juntou durante uma semana, algumas moedas em seu cofrinho, ao abri-lo, ela tinha as seguintes moedas:



Amanda pode trocar essas moedas por uma única nota, sem prejuízo ou vantagem. Qual é essa nota?

- (A) (C) (B) (D)

ATIVIDADE 02

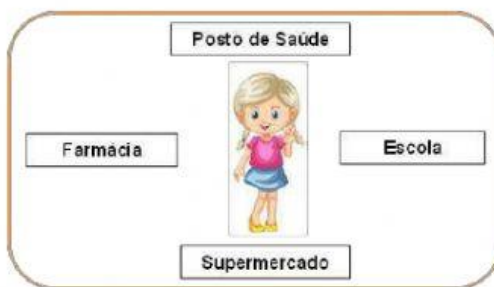
- 1) A mãe do Felipe pediu para ele pegar o objeto que está à esquerda da mesa.



O objeto que Felipe pegou foi:

- (a) o copo (b) a bola (c) o chinelo (d) a mamadeira


- 2) Ana Paula precisa ir até a farmácia. A escola está localizada _____ da Ana Paula.



Observe a imagem e marque a alternativa que completa a lacuna acima.

- a) à frente (b) à direita (c) à esquerda (d) atrás

- 3) De acordo com a imagem, abaixo, a menina que está mais perto do carrinho é a:



- (a) Beatriz (b) Julia (c) Clara (d) Ana

