


Nome: _____ Nº _____

Valor: 3,0

Trabalho de Matemática I

1) Observe a ilustração e, em seguida, faça o que se pede.



Marque com x a quantidade de laranjas mostradas acima.

meia dúzia

1 dúzia

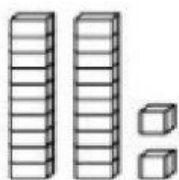
1 dúzia e meia

2) Resolva.

DEZENA	UNIDADE	DEZENA	UNIDADE	DEZENA	UNIDADE	DEZENA	UNIDADE	DEZENA	UNIDADE
2	5	6	2	5	7	3	8	4	1
+2	3	+1	4	+4	2	+2	1	+1	7

DEZENA	UNIDADE	DEZENA	UNIDADE	DEZENA	UNIDADE	DEZENA	UNIDADE	DEZENA	UNIDADE
5	1	7	8	8	3	1	5	2	6
+3	8	+1	1	+1	4	+1	3	+2	3

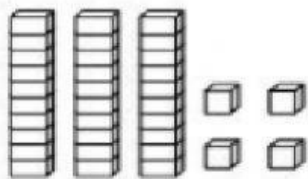
3) Ligue as peças do Material Dourado com o seu número correspondente.



•

•

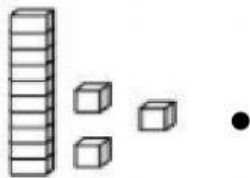
13



•

•

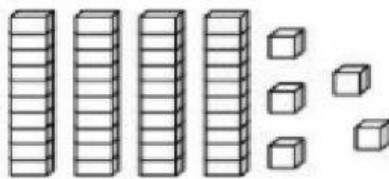
22



•

•

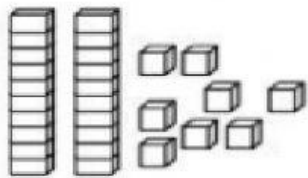
28



•

•

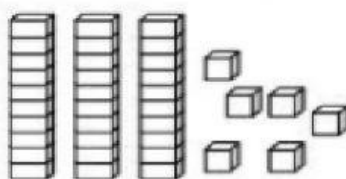
34



•

•

36



•

•

45