










التقييم الشهري (الاول للفصل الثالث) للخبرة العددية أول روضة

التاريخ: 2021/05/23

هيا يا صغيري عد وأكتب العدد الصحيح

<input type="text"/>		<input type="text"/>		<input type="text"/>	
<input type="text"/>		<input type="text"/>		<input type="text"/>	
<input type="text"/>		<input type="text"/>		<input type="text"/>	

أكمل العدد الناقص

1		3			6		8	
---	--	---	--	--	---	--	---	--

أختر الأشكال التي تحتوي على خطوط متوازية:

