

REPASO MAYO

1. Dictado de números.



2. Escribe con letra estos números.

58		63	
75		88	
19		21	

3. Escribe los números anterior y posterior.

	55	
	69	
	80	
	93	

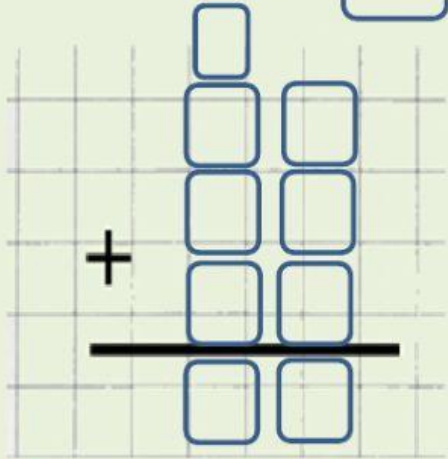
4. Realiza las siguientes operaciones.

$47 + 35 = \square$

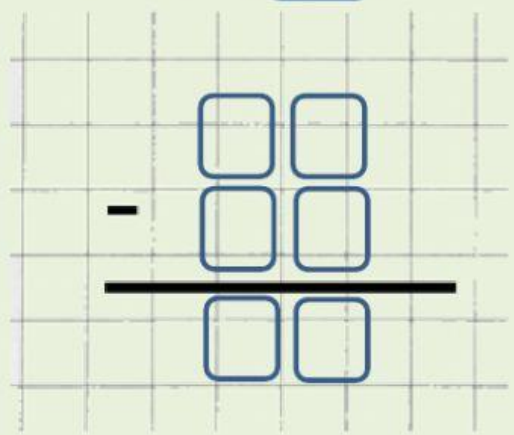
A blank addition problem template on a grid. It shows a plus sign, a horizontal line, and two columns of empty boxes for digits.

$58 + 26 = \square$

$$38 + 17 + 22 = \square$$



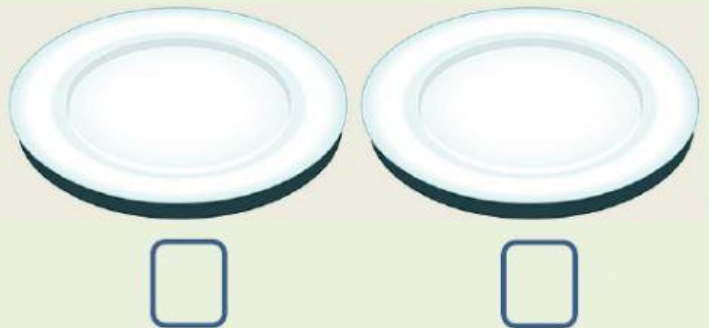

$$59 - 32 = \square$$




5. Calcula el doble de los siguientes números.

x	2	3	4	5	6	7	8	9	10
2	4								

6. Reparte y completa.



es la mitad de 8



es la mitad de 6

7. Daniela tiene 26 camisetas y 12 pantalones. ¿Cuántas camisetas más que pantalones tiene Daniela?

Datos:

Camisetas



Pantalones



Hay que averiguar...

☐ El total

La diferencia

☐ Sumar

☐ Restar

Operación:

Solución:

Daniela tiene camisetas más que pantalones.

8. Observa y marca las opciones correctas.



- ☐ La piña pesa más que las ciruelas.
- ☐ Las cerezas pesan más que la piña.
- ☐ La manzana pesa menos que la fresa.
- ☐ La fresa pesa menos que la manzana.
- ☐ La fresa y la manzana pesan lo mismo.