



# ESCUELA DE EDUCACIÓN GENERAL BÁSICA

"JOSÉ ACOSTA VALLEJO"

CANGAHUA - CAYAMBE - ECUADOR

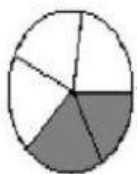
AÑO LECTIVO 2019-2020



## SEXTO AÑO DE EGB

Realizar los siguientes ejercicios de fracciones

Marca ☒ la fracción que corresponde a la figura



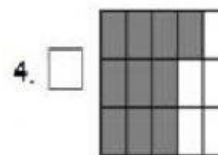
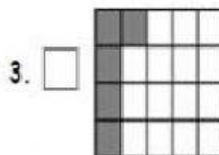
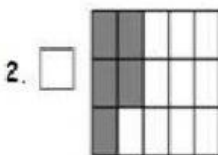
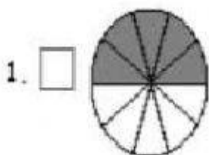
1. ☐  $\frac{3}{5}$

2. ☐  $\frac{3}{2}$

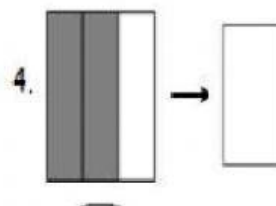
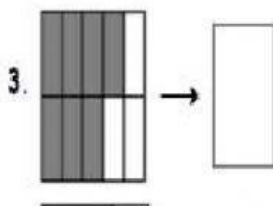
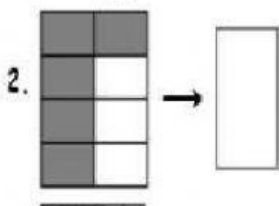
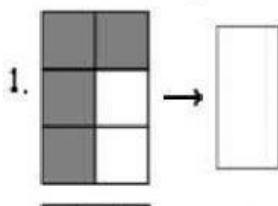
3. ☐  $\frac{2}{5}$

4. ☐  $\frac{2}{3}$

Marca ☒ la figura que corresponde a la fracción  $\frac{5}{15}$



Escribe la fracción que corresponde a cada figura:



Une con líneas a la que corresponda

a		>	$\frac{4}{5}$ A
b		>	$\frac{2}{10}$ B
c		>	$\frac{4}{8}$ C