

## EVALUAMOS LO APRENDIDO: LAS REPRESENTACIONES DE LA TIERRA

1. Elegí en cada caso una de las tres opciones propuestas de manera tal que queden formadas oraciones verdaderas.

a. El mapa:

es una representación del territorio visto desde arriba.

es una representación del territorio visto desde la superficie terrestre.

es una representación del territorio no mayor que una provincia.

b. El Norte:

siempre se encuentra en la parte inferior de los mapas.

siempre se encuentra en la parte superior de los mapas.

se encuentra a la derecha de los mapas.

c. Para saber qué significan los símbolos que aparecen en los mapas debemos:

consultar la escala cromática.

comparar con otro mapa.

consultar las referencias del mapa que estamos observando.

d. Cuanto más oscuro es el color marrón en un mapa físico:

hay menor altura.

la altura es mayor.

es más profundo.

e. Para calcular la distancia entre dos puntos en el mapa debo:

ver sus coordenadas.

utilizar la escala cromática.

utilizar la escala gráfica.

f. Para ubicar puntos en el mapa debo:

identificar la proyección utilizada para realizar el mapa.

utilizar la escala gráfica.

ver sus coordenadas.

2. Ubicá las siguientes palabras en el esquema según corresponda:

FÍSICOS

MAPAS

TEMÁTICOS

TEMA

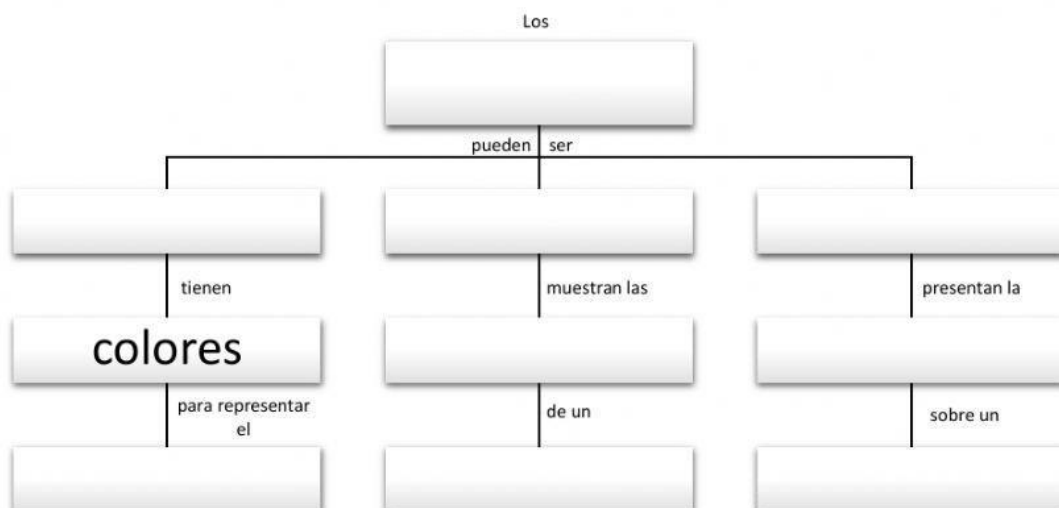
TERRITORIO

POLÍTICOS


INFORMACIÓN

RELIEVE


DIVISIONES




3. Los siguientes rectángulos representan planisferios con el Ecuador y el Meridiano de Greenwich marcados. Coloreá en cada uno el hemisferio o cuadrante indicados, seleccionando el o los sectores correspondientes.




Hemisferio austral



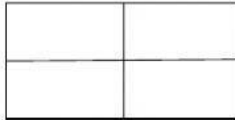
Hemisferio septentrional



Cuadrante N E




Cuadrante N O




Cuadrante SO



Hemisferio occidental



Cuadrante SE



Hemisferio Oriental