


DECENAS Y UNIDADES

Mira este vídeo donde te recordamos qué son decenas y unidades.



He comprado uvas en el supermercado. Tengo 3 decenas y 4 unidades.
¿Cuántas uvas tengo en total?



Tengo _____ uvas
en total.


¿Cuántas decenas de castañas puedes hacer?. ¿Queda alguna castaña suelta?



Ruedo hacer _____ decenas.

Se quedan sueltas _____ castañas.

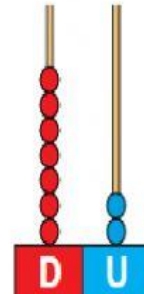

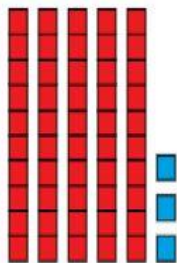
¿Cuántas decenas de bellotas puedes hacer?. ¿Queda alguna bellota suelta?



Puedo hacer _____ decenas.

Se quedan sueltas _____ bellotas.

Cuenta y escribe el número.



Completa.

48 ➤

D	U
	8

 ➤ 4 decenas y 8 unidades

61 ➤

D	U

 ➤ ___ decenas y ___ unidades

97 ➤

D	U

 ➤

		y		
--	--	---	--	--