

RESOLVER EL SIGUIENTE PROBLEMA

Ana  tiene una colección de

178 cromos de motos



y Javier  tiene una colección de

245 cromos de animales




¿Cuántos cromos tienen en total?



ESCRIBE LA PREGUNTA:

ESCRIBE LOS DATOS:





Piensa qué hay que hacer. Pulsa en la operación correcta



3. ARRASTRA EL SIGNO DE LA OPERACIÓN DE ARRIBA HASTA ABAJO Y CALCULA:

Solución: