




Repartos

Shaggy recolectó 10 Scooby galletas. Quiere dividir las en grupos iguales para que cada grupo tenga 2 Scooby galletas, ¿Cuántos grupos hará en total?



Grupo 1

Grupo 2

Grupo 3

Grupo 4

Grupo 5

Grupo 6


Grupo 7

Grupo 8

Grupo





Shaggy tiene 20 Scooby galletas. Quiere repartirlas de forma igual entre él y Scooby, ¿Cuántas Scooby galletas le toca a cada uno?





Daphne compro 12 manzanas y las quiere repartir en 3 canastas de manera que reciban la misma cantidad, ¿Cuántas manzanas le corresponde a cada canasta?





Velma tiene 16 Scooby galletas y quiere dar 4 a cada uno de sus amigos, ¿A cuántos amigos les puede dar Scooby galletas?

